

摩托车类题库（800 题）

1. 道路交通安全法律、法规和规章（222 题）

1.1 道路交通安全法（69 道题）

1.1.1 选择题：（51 题）

1.1.1.1 《中华人民共和国道路交通安全法》是为了维护道路交通秩序，____，提高通行效率。

- A. 保证车辆高速行驶
- B. 圆满完成运输任务
- C. 保护公民合法权益
- D. 减少交通事故

答案：C

1.1.1.2 机动车经____登记后，方可上道路行驶。

- A. 道路运输管理机构
- B. 公安机关交通管理部门
- C. 工商部门
- D. 税务部门

答案：B

1.1.1.3 尚未登记的机动车，需要临时上道路行驶，应当____。

- A. 取得临时通行牌证
- B. 到公安机关备案
- C. 直接上路行驶
- D. 在车窗上张贴合格证

答案：A

1.1.1.4 申请机动车登记，机动车所有人不需要提交的证明或凭证是____。

- A. 驾驶证
- B. 身份证明和机动车来历证明
- C. 整车出厂合格证明或者机动车进口凭证
- D. 车辆购置税的完税证明或者免税凭证

答案：A

1.1.1.5 机动车在以下哪种情形不需要办理相应的登记____。

- A. 所有权发生转移的
- B. 用作抵押的
- C. 进行大修的
- D. 报废的

答案：C

1.1.1.6 已达到报废标准的机动车____上道路行驶。

- A. 允许临时
- B. 不得
- C. 经维修后可以
- D. 缴管理费后可以

答案：B

1.1.1.7 允许收缴、扣留机动车驾驶证的机构是_____。

- A. 道路运输管理部门
- B. 公安机关交通管理部门
- C. 工商部门
- D. 税务部门

答案：B

1.1.1.8 驾驶人在道路上驾驶机动车时_____。

- A. 可以不携带驾驶证
- B. 可以不携带行驶证
- C. 必须携带机动车驾驶证、行驶证和交强险
- D. 应携带出厂合格证明或进口凭证

答案：C

1.1.1.9 驾驶人驾驶机动车上道路行驶前，应当对机动车的_____进行认真检查。

- A. 安全技术状况
- B. 整体结构
- C. 所有部件
- D. 齿轮油

答案：A

1.1.1.10 机动车驾驶人_____车辆。

- A. 在没有交通信号时可以任意驾驶
- B. 应当依法、安全和文明驾驶
- C. 在没有交通警察时可随意驾驶
- D. 可按照自己的习惯驾驶

答案：B

1.1.1.11 驾驶人在_____可以驾驶机动车。

- A. 饮酒后
- B. 患有妨碍安全驾驶的疾病
- C. 过度疲劳时
- D. 饮茶后

答案：D

1.1.1.12 公安机关交通管理部门对累积记分达到规定分值的机动车驾驶人，扣留机动车驾驶证，对其_____。

- A. 进行道路交通安全法律、法规教育
- B. 予以扣留机动车的处理
- C. 予以吊销行驶证的处罚
- D. 依法进行行政拘留

答案：A

1.1.1.13 下列不属于道路交通信号的是_____。

- A. 交通信号灯
- B. 交通信息板
- C. 交通警察的指挥
- D. 交通标志


答案：B

1. 1. 1. 14 以下不属于道路交通信号是_____。

- A. 警灯
- B. 交通标志
- C. 交通警察的指挥
- D. 交通标线

答案： A

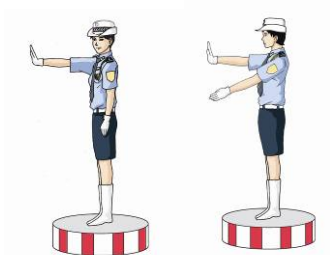
1. 1. 1. 15 如图所示的交通警察指挥手势是示意车辆_____。



- A. 向右转弯
- B. 直行
- C. 向左转弯
- D. 靠边停车

答案： B

1. 1. 1. 16 如图所示的交通警察指挥手势是示意车辆_____。



- A. 直行
- B. 右小转弯行驶
- C. 左小转弯行驶
- D. 靠边停车

答案： C

1. 1. 1. 17 如图所示的交通警察指挥手势是示意交通违法行为车辆_____。



- A. 靠边停车
- B. 右转弯
- C. 左转弯
- D. 直行

答案：A

1.1.1.18 驾驶机动车，必须遵守____的原则。

- A. 右侧通行
- B. 左侧通行
- C. 内侧通行
- D. 中间通行

答案：A

1.1.1.19 没有划分机动车道、非机动车道和人行道的道路，机动车____。

- A. 在道路两侧通行
- B. 在道路中间通行
- C. 实行分道通行
- D. 可随意通行

答案：B

1.1.1.20 机动车遇有交通警察现场指挥时，应当按照____通行。

- A. 道路标志
- B. 交通信号灯的指挥
- C. 交通警察的指挥
- D. 道路标线

答案：C

1.1.1.21 机动车在没有交通标志、标线的道路上，应当____。

- A. 随意行驶
- B. 加速行驶
- C. 停车观察周围情况后行驶
- D. 在确保安全、畅通的原则下行驶

答案：D

1.1.1.22 机动车在设有最高限速标志的道路上行驶时，____。

- A. 不得超过标明的最高时速
- B. 允许超过标明最高时速的 10%
- C. 可以超过车辆的最高设计时速
- D. 按规定的最高车速行驶

答案：A

1.1.1.23 机动车在没有限速标志的路段____。

- A. 应当以最高设计车速行驶
- B. 不受速度限制
- C. 应当保持安全车速
- D. 按自己的意愿行驶

答案：C

1.1.1.24 机动车在夜间或者容易发生危险的路段，应当____。

- A. 以最高设计车速行驶
- B. 降低速度，谨慎驾驶
- C. 保持现有速度行驶
- D. 以超过规定的最高车速行驶

答案：B

- 1.1.1.25 机动车遇有沙尘、冰雹、雨、雪、雾、结冰等气象条件时，应当____行驶。
- A. 以较高速度
 - B. 以超过规定的最高车速
 - C. 以现有速度
 - D. 降低速度
- 答案：D
- 1.1.1.26 机动车通过没有交通信号灯、交通标志、交通标线或者交通警察指挥的交叉路口时，应当____。
- A. 迅速通过
 - B. 减速慢行
 - C. 适当加速
 - D. 保持行驶速度
- 答案：B
- 1.1.1.27 在车道减少的路段、路口，机动车应当____。
- A. 借道超车
 - B. 依次交替通行
 - C. 加速通过
 - D. 抢道行驶
- 答案：B
- 1.1.1.28 在没有交通信号的交叉路口遇到停车排队等候或者缓慢行驶时，机动车应当____。
- A. 借右侧道路超车
 - B. 从左侧超车
 - C. 依次交替通行
 - D. 穿插等候的车辆
- 答案：C
- 1.1.1.29 机动车通过有交通信号或者管理人员的铁路道口时，应当____通行。
- A. 以正常速度
 - B. 保持安全车速
 - C. 尽快加速
 - D. 按照交通信号或者管理人员的指挥
- 答案：D
- 1.1.1.30 机动车通过没有交通信号或者管理人员的铁路道口时，应当____通过。
- A. 按原来车速行驶
 - B. 减速或者停车观察
 - C. 加速尽快通过
 - D. 紧随前车行驶
- 答案：B
- 1.1.1.31 机动车遇行人正在通过人行横道时，应当____。
- A. 停车让行
 - B. 绕行通过
 - C. 持续鸣喇叭通过
 - D. 提前加速通过
- 答案：A

- 1.1.1.32 机动车行经没有交通信号的道路，遇行人横过道路时，应当_____。
- A. 鸣喇叭，让行人快走
 - B. 加速行驶
 - C. 减速或停车避让
 - D. 绕行通过
- 答案：C
- 1.1.1.33 机动车在道路上发生故障，需要停车排除时，驾驶人应当立即开启危险报警闪光灯，_____。
- A. 就地停车，以免造成机械事故
 - B. 将机动车移至不妨碍交通的地方停放
 - C. 迅速停车，并在车前方设置警告标志
 - D. 停车后迅速报警
- 答案：B
- 1.1.1.34 机动车在道路上发生故障，难以移动的，首先应当持续开启危险报警闪光灯，_____。
- A. 集中精力排除故障
 - B. 向过往车辆求救
 - C. 并在来车方向设置警告标志
 - D. 立即报警
- 答案：C
- 1.1.1.35 警车、消防车、救护车、工程救险车执行紧急任务时，其他车辆_____。
- A. 可加速穿行
 - B. 可谨慎超越
 - C. 视情让行
 - D. 应当让行
- 答案：D
- 1.1.1.36 道路养护车辆、工程作业车进行作业时，过往车辆和人员_____。
- A. 可以超越
 - B. 应当注意避让
 - C. 可以不让行
 - D. 应各行其道
- 答案：B
- 1.1.1.37 机动车在高速公路上发生故障时，警告标志应当设置在故障车来车方向_____以外。
- A. 30 米
 - B. 50 米
 - C. 100 米
 - D. 150 米
- 答案：D
- 1.1.1.38 在道路上发生交通事故，造成人身伤亡的，驾驶人应当_____。
- A. 立即抢救受伤人员，并迅速报告执勤的交通警察或者公安机关交通管理部门
 - B. 迅速将车移到安全的地方
 - C. 撤离现场，自行协商处理损害赔偿事宜
 - D. 先检查车辆受损情况

答案：A

- 1.1.1.39 在道路上发生交通事故，造成人身伤亡的，驾驶人应当____，并迅速报告执勤的交通警察或者公安机关交通管理部门。
- A. 立即抢救受伤人员
 - B. 迅速将车移到安全的地方
 - C. 撤离现场，自行协商处理损害赔偿事宜
 - D. 先检查车辆受损情况

答案：A

- 1.1.1.40 在道路上发生交通事故，未造成人身伤亡，当事人对事实及成因无争议的，应当____。
- A. 将车停在原地，保护好现场，等待交通警察前来处理
 - B. 即行撤离现场，自行协商处理损害赔偿事宜
 - C. 不得撤离现场
 - D. 保护现场，请保险公司定损

答案：B

- 1.1.1.41 饮酒后驾驶机动车的，处暂扣____驾驶证，并处 200 元以上 500 元以下罚款。
- A. 12 个月
 - B. 6 个月
 - C. 3 个月以上 6 个月以下
 - D. 1 个月以上 3 个月以下

答案：D

- 1.1.1.42 醉酒后驾驶机动车的，由公安机关交通管理部门约束至酒醒，处____拘留和暂扣 3 个月以上 6 个月以下机动车驾驶证，并处 500 元以上 2000 元以下罚款。
- A. 60 日
 - B. 30 日
 - C. 15 日以上
 - D. 15 日以下

答案：D

- 1.1.1.43 故意遮挡、污损机动车号牌的处警告或者处____罚款。
- A. 3000 元以上
 - B. 20 元以上 200 元以下
 - C. 200 元以上 2000 元以下
 - D. 2000 元以上

答案：B

- 1.1.1.44 未取得机动车驾驶证驾驶机动车的，公安交通管理部门除按照规定罚款外，还可以并处____。
- A. 15 日以下拘留
 - B. 吊销驾驶证
 - C. 扣留车辆
 - D. 5 年不能领取驾驶证

答案：A

- 1.1.1.45 机动车驾驶证被吊销或者机动车驾驶证被暂扣期间驾驶机动车的，公安交通管理部门除按照规定罚款外，还可以并处_____。
- A. 吊销驾驶证
 - B. 15 日以下拘留
 - C. 5 年不准领取驾驶证
 - D. 扣留车辆
- 答案：B
- 1.1.1.46 将机动车交由未取得机动车驾驶证的人驾驶的，公安交通管理部门除按照规定罚款外，还可以并处_____。
- A. 15 日以下拘留
 - B. 吊销驾驶证
 - C. 扣留车辆
 - D. 5 年不得重新取得驾驶证
- 答案：B
- 1.1.1.47 造成交通事故后逃逸，尚不构成犯罪的，由公安交通管理部门处_____罚款。
- A. 100 以上 200 元以下
 - B. 200 元以上 500 元以下
 - C. 200 元以上 2000 元以下
 - D. 2000 元以上
- 答案：C
- 1.1.1.48 造成交通事故后逃逸，尚不构成犯罪的，公安交通管理部门除按照规定罚款外，还可以并处_____。
- A. 15 日以下拘留
 - B. 吊销驾驶证
 - C. 扣留车辆
 - D. 5 年不得重新取得驾驶证
- 答案：A
- 1.1.1.49 机动车行驶超过规定时速百分之 50 的，由公安交通管理部门处_____罚款。
- A. 100 以上 200 元以下
 - B. 200 元以上 500 元以下
 - C. 200 元以上 2000 元以下
 - D. 2000 元以上
- 答案：C
- 1.1.1.50 对驾驶已达到报废标准的机动车上道路行驶的驾驶人，处 200 元以上 2000 元以下罚款，并_____。
- A. 拘留驾驶人
 - B. 注销行驶证
 - C. 吊销驾驶证
 - D. 暂扣驾驶证
- 答案：C
- 1.1.1.51 当事人逾期不履行行政处罚决定的，作出行政处罚决定的行政机关可以_____。
- A. 申请人民法院强制执行
 - B. 申请人民检察院强制执行
 - C. 吊销其机动车驾驶证

D. 处 15 日以下拘留

答案：A

1.1.2 判断题：（18 题）

1.1.2.1 凡在中华人民共和国境内道路上通行的车辆驾驶人、行人、乘车人以及与道路交通活动有关的单位和个人,都必须遵守《中华人民共和国道路交通安全法》。

答案：正确

1.1.2.2 机动车未悬挂号牌,可以上道路行驶。

答案：错误

1.1.2.3 驾驶机动车上道路行驶,须随车携带机动车行驶证。

答案：正确

1.1.2.4 机动车号牌应当按照规定悬挂并保持清晰、完整,不得故意遮挡、污损。

答案：正确

1.1.2.5 机动车驾驶人必须经过公安机关交通管理部门考试合格,领取驾驶证,方准在道路上驾驶机动车。

答案：正确

1.1.2.6 不得驾驶安全设施不全或者机件不符合技术标准等具有安全隐患的机动车。

答案：正确

1.1.2.7 饮酒未醉时,可以驾驶机动车。

答案：错误

1.1.2.8 驾驶机动车,应当遵守左侧通行的原则。

答案：错误

1.1.2.9 道路划分为机动车道、非机动车道和人行道的,机动车、非机动车、行人实行分道通行。

答案：正确

1.1.2.10 机动车行经交叉路口,不得超车。

答案：正确

1.1.2.11 机动车行经弯道时,在保证不发生事故的前提下可以迅速超车。

答案：错误

1.1.2.12 设计最高时速低于 70 公里的机动车,允许进入高速公路。

答案：错误

1.1.2.13 在道路上发生交通事故,造成人身伤亡的,车辆驾驶人因抢救受伤人员变动现场的,应当标明位置。

答案：正确

1.1.2.14 对道路交通安全违法行为的处罚种类包括:警告、罚款、暂扣或者吊销驾驶证、拘留。

答案：正确

1.1.2.15 违反道路交通安全法律、法规的规定,发生重大交通事故,构成犯罪的,依法追究刑事责任,并由公安机关交通管理部门吊销驾驶证。

答案：正确

1.1.2.16 造成交通事故后逃逸的,由公安机关交通管理部门吊销机动车驾驶证,且终生不得重新取得机动车驾驶证。

答案：正确

1.1.2.17 当事人到期不缴纳罚款的,作出行政处罚决定的行政机关可以每日按罚款数额的 3%加处罚款。

答案：正确

1.1.2.18 摩托车驾驶人及乘坐人员应当按规定戴安全头盔。

答案：正确

1.2 交通安全法实施条例（77 题）

1.2.1 选择题（49）

1.2.1.1 机动车的登记，不包括___登记。

- A. 挂失
- B. 注册
- C. 变更
- D. 注销

答案：A

1.2.1.2 已注册登记机动车所有人的住所迁出或迁入公安机关交通管理部门管辖区域的，机动车所有人应当向登记该机动车的公安机关交通管理部门申请___登记。

- A. 注册
- B. 转移
- C. 变更
- D. 注销

答案：C

1.2.1.3 申请机动车转移登记，当事人不需要向登记该机动车的公安机关交通管理部门提交的证明或凭证是___。

- A. 机动车驾驶证
- B. 当事人的身份证明
- C. 机动车行驶证
- D. 机动车所有权转移的证明、凭证

答案：A

1.2.1.4 已注册登记的机动车达到国家规定的强制报废标准的，机动车所有人应当将车辆在报废期满前___。

- A. 卖给废品收购站
- B. 交给机动车回收企业
- C. 交给公安机关交通管理部门
- D. 交给道路运输管理部门

答案：B

1.2.1.5 机动车登记证书、号牌、行驶证丢失或者损毁，机动车所有人申请补发的，应当向___提交本人身份证明和申请材料。

- A. 交通部门
- B. 公安机关交通管理部门
- C. 工商部门
- D. 保险公司

答案：B

1.2.1.6 摩托车 4 年以内每___检验 1 次。

- A. 1 年
- B. 2 年
- C. 3 年
- D. 4 年

答案：B

1.2.1.7 摩托车辆超过____的，每年检验1次。

- A. 1年
- B. 2年
- C. 3年
- D. 4年

答案：D

1.2.1.8 机动车驾驶人初次申领机动车驾驶证后的____为实习期。

- A. 3个月
- B. 6个月
- C. 12个月
- D. 24个月

答案：C

1.2.1.9 机动车驾驶证有效期分为____、10年和长期。

- A. 1年
- B. 2年
- C. 5年
- D. 6年

答案：D

1.2.1.10 道路交通安全违法行为累积记分周期为____。

- A. 3个月
- B. 6个月
- C. 12个月
- D. 24个月

答案：C

1.2.1.11 机动车驾驶人累计记分达到12分，拒不参加公安机关交通管理部门通知的学习，也不接受考试的，由公安机关交通管理部门____。

- A. 公告其驾驶证停止使用
- B. 扣留其驾驶证
- C. 吊销其驾驶证
- D. 对其加倍处以罚款

答案：A

1.2.1.12 机动车驾驶证丢失、损毁，机动车驾驶人申请补发的，应当向____提交本人身份证明和申请材料。

- A. 交通部门
- B. 公安机关交通管理部门
- C. 工商部门
- D. 当地派出所

答案：B

1.2.1.13 机动车在没有限速标志、标线的情况下，没有道路中心线的城市道路规定最高时速为____。

- A. 30公里
- B. 40公里
- C. 50公里

D. 70 公里

答案：A

1. 2. 1. 14 机动车在没有限速标志、标线的情况下，没有道路中心线的公路规定最高时速为___。

A. 30 公里

B. 40 公里

C. 50 公里

D. 70 公里

答案：B

1. 2. 1. 15 机动车在没有限速标志、标线的情况下，如果同方向只有一条机动车道的公路规定最高时速为___。

A. 30 公里

B. 40 公里

C. 50 公里

D. 70 公里

答案：D

1. 2. 1. 16 机动车（除拖拉机、电瓶车、轮式专用机械车外）驶入或驶出非机动车道，最高时速不准超过___。

A. 30 公里

B. 40 公里

C. 50 公里

D. 60 公里

答案：A

1. 2. 1. 17 机动车（除拖拉机、电瓶车、轮式专用机械车外）在掉头、转弯、下陡坡时，最高时速不准超过___。

A. 30 公里

B. 40 公里

C. 50 公里

D. 60 公里

答案：A

1. 2. 1. 18 驾驶机动车超车，应当___。

A. 从前车的右侧超越

B. 从前车的左侧超越

C. 从左右两侧均可超越

D. 不受速度限制

答案：B

1. 2. 1. 19 在没有道路中心线的道路上，前车遇后车发出超车信号时，应当___。

A. 保持原有状态行驶

B. 加速行驶

C. 迅速停车让行

D. 在条件许可的情况下，应当降低速度、靠右让路

答案：D

1. 2. 1. 20 会车中道路一侧有障碍，双方车辆应做到___先行。

A. 无障碍一方让对方

- B. 无让路条件的一方让对方
- C. 有障碍的一方让对方
- D. 速度快的让速度慢的

答案：C

1. 2. 1. 21 夜间会车应当在距相对方向来车___改用近光灯。

- A. 50 米以内
- B. 150 米以外
- C. 30 米以内
- D. 100 米以内

答案：B

1. 2. 1. 22 机动车行经交叉路口向右转弯，遇有同车道前车正在等候放行信号时，应当___。

- A. 从左绕行通过路口
- B. 鸣喇叭示意前车让路
- C 从右绕行通过路口
- D. 依次停车等候

答案：D

1. 2. 1. 23 在没有方向指示信号灯的交叉路口，___。

- A. 转弯的机动车让直行的车辆先行
- B. 直行的机动车让转弯的车辆先行
- C. 相对方向行驶的左转弯机动车让右转弯车辆先行
- D. 应从左或右绕行通过路口

答案：A

1. 2. 1. 24 机动车通过没有交通信号的交叉路口，应当___先行。

- A. 让左方道路来车
- B. 让右方道路来车
- C. 左转弯车让右转弯
- D. 直行车让转弯车辆

答案：B

1. 2. 1. 25 机动车通过没有交通信号灯也没有交通警察指挥的交叉路口，相对方向行驶的___。

- A. 直行车让左转弯车先行
- B. 左转弯车让右转弯车先行
- C. 右转弯车让左转弯车先行
- D. 车辆可随意穿行

答案：C

1. 2. 1. 26 机动车遇有前方交叉路口交通阻塞时，应当___。

- A. 依次停在路口以外等候，不得进入路口
- B. 从左绕行，设法通过路口
- C. 从右绕行，设法通过路口
- D. 迅速掉头，逆行驶离

答案：A

1. 2. 1. 27 机动车遇有前方机动车停车排队等候时，应当___。

- A. 从前方车辆两侧穿插
- B. 从前方车辆左侧超越

C. 从前方车辆右侧超越

D. 依次排队

答案：D

1.2.1.28 机动车在遇有前方机动车缓慢行驶时，应当___。

A. 从前方车辆两侧穿插

B. 停车等候

C. 从前方车辆两侧超越

D. 依次排队行驶

答案：D

1.2.1.29 机动车向左转弯、向左变更车道、准备超车、驶离停车地点或掉头时，应当提前___。

A. 开启左转向灯

B. 开启危险报警闪光灯

C. 开启右转向灯

D. 伸手示意其他车辆注意

答案：A

1.2.1.30 机动车向右转弯、向右变更车道、超车完毕驶回原车道、靠路边停车时，应当提前___。

A. 开启危险报警闪光灯

B. 伸手示意其他车辆注意

C. 开启右转向灯

D. 开启左转向灯

答案：C

1.2.1.31 机动车驶近急弯、坡道顶端等影响安全视距的路段时，应当___。

A. 鸣喇叭，快速通过

B. 减速慢行，并鸣喇叭示意

C. 使用危险报警闪光灯

D. 随意通行

答案：B

1.2.1.32 机动车在夜间通过没有交通信号灯控制的交叉路口时，应当___。

A. 使用远光灯

B. 使用近光灯

C. 使用危险报警闪光灯

D. 交替使用远近光灯示意

答案：D

1.2.1.33 机动车在停车场以外的其他地点临时停车时，应当___。

A. 在非机动车道停车

B. 按顺行方向靠道路右边停放，但不得妨碍其他车辆和行人通行

C. 按逆行方向靠道路左边停放

D. 选择路边停车

答案：B

1.2.1.34 机动车距离交叉路口、弯路、窄路、陡坡、隧道___以内不准停车。

A. 20 米

B. 30 米

C. 40 米

D. 50 米

答案：D

3. 2. 1. 35 摩托车在道路上发生故障，妨碍交通又难以移动的，应当按规定开启危险报警闪光灯并在车后___处设置警告标志。

A. 10 米至 20 米

B. 20 米至 30 米

C. 50 米至 100 米

D. 100 米至 150 米

答案：C

1. 2. 1. 36 机动车在人行横道、施工地段___。

A. 可以临时停车

B. 可以随意停车

C. 可以长时间停车

D. 不得停车

答案：D

1. 2. 1. 37 摩托车载物，高度从地面起不得超过___。

A. 1.5 米

B. 2 米

C. 2.5 米

D. 3 米

答案：A

1. 2. 1. 38 摩托车载物，长度不得超出车身___。

A. 2 米

B. 1 米

C. 0.5 米

D. 0.2 米

答案：D

1. 2. 1. 39 两轮摩托车载物宽度左右各不得超出车把___。

A. 0.15 米

B. 0.20 米

C. 0.25 米

D. 0.5 米

答案：A

1. 2. 1. 40 三轮摩托车载物宽度___。

A. 不得超过车身 0.15 米

B. 不得超过车身

C. 不得超过车身 0.20 米

D. 不得超过车身 0.25 米

答案：B

1. 2. 1. 41 摩托车后座不得乘坐未满___的未成年人。

A. 12 周岁

B. 13 周岁

C. 14 周岁

D. 15 周岁

答案：A

1. 2. 1. 42 轻便摩托车_____。

A. 可乘载未满 12 周岁以内的未成年人

B. 可以乘载 18 周岁以上的成年人

C. 不得载人

D. 可乘载学龄前儿童

答案：C

1. 2. 1. 43 机动车在高速公路上正常行驶时，最低车速不得低于每小时_____。

A. 50 公里

B. 60 公里

C. 70 公里

D. 80 公里

答案：B

1. 2. 1. 44 机动车从匝道驶入高速公路，应当开启_____，在不妨碍已在高速公路内的机动车正常行驶的情况下驶入车道。

A. 左转向灯

B. 右转向灯

C. 危险报警闪光灯

D. 前照灯

答案：A

1. 2. 1. 45 机动车驶离高速公路时，应当开启_____，驶入减速车道，降低车速后驶离。

A. 左转向灯

B. 右转向灯

C. 危险报警闪光灯

D. 前照灯

答案：B

1. 2. 1. 46 机动车在高速公路上行驶，遇有雾、雨、雪、沙尘、冰雹等低能见度气象条件时，能见度小于 50 米时，车速不得超过每小时_____。

A. 60 公里

B. 40 公里

C. 20 公里

D. 50 公里

答案：C

1. 2. 1. 47 在高速公路上行驶的摩托车不得超过每小时_____。

A. 80 公里

B. 90 公里

C. 100 公里

D. 110 公里

答案：A

1. 2. 1. 48 机动车与机动车、机动车与非机动车在道路上发生未造成人身伤亡的交通事故，当事人对事实及成因无争议的，当事人应当_____。

A. 撤离现场，自行协商损害赔偿事宜

B. 将车停在原地，保护好现场，等待交通警察前来处理

C. 现场协商损害赔偿事宜

D. 保护现场，请保险公司定损

答案：A

1.2.1.49 被扣留的机动车，驾驶人或者所有人、管理人 30 日内不接受处理，经公安机关交通管理部门公告___个月仍不接受处理的，依法拍卖。

- A. 1 个月
- B. 3 个月
- C. 6 个月
- D. 12 个月

答案：B

1.2.2 判断题：(28 题)

1.2.2.1 申请机动车转移登记时，当事人应当向登记该机动车的公安机关交通管理部门交验机动车。

答案：正确

1.2.2.2 机动车驾驶人在 1 个记分周期内记分虽未达到 12 分，但尚有罚款未缴纳的，记分也予以清除。

答案：错误

1.2.2.3 机动车驾驶人的机动车驾驶证丢失，仍然可以驾驶机动车。

答案：错误

1.2.2.4 机动车驾驶人的机动车驾驶证记分达到 12 分的，不得驾驶机动车。

答案：正确

1.2.2.5 机动车通过铁路道口、急弯路、窄路、窄桥时，最高行驶速度不得超过每小时 30 公里。

答案：正确

1.2.2.6 夜间在窄路、窄桥与非机动车会车时应当使用远光灯。

答案：错误

1.2.2.7 机动车在有禁止左转弯标志的地点不得掉头。

答案：正确

1.2.2.8 机动车可以选择交叉路口、隧道中、单行路段进行倒车。

答案：错误

1.2.2.9 在划有导向车道的路口，机动车应按所需行进方向驶入导向车道。

答案：正确

1.2.2.10 在道路同方向划有 2 条以上机动车道的，摩托车应当在最左侧车道行驶。

答案：错误

1.2.2.11 三轮摩托车载物宽度允许超过车身 0.15 米。

答案：错误

1.2.2.12 轻便摩托车只允许乘载学龄前儿童。

答案：错误

1.2.2.13 摩托车不得牵引摩托车，但允许被其他摩托车牵引。

答案：错误

1.2.2.14 驾驶摩托车时可单手离车把，但不得双手同时离把。

答案：错误

1.2.2.15 驾驶摩托车时不得在车把上悬挂物品。

答案：正确

1.2.2.16 乘坐两轮摩托车的人应当侧向骑坐。

答案：错误

1.2.2.17 摩托车不得牵引车辆或者被其他车辆牵引。

答案：正确

1.2.2.18 在单位院内、居民居住区内，机动车应当低速行驶，避让行人。

答案：正确

1.2.2.19 在单位院内、居民居住区内有限速标志的，机动车应当按照限速标志行驶。

答案：正确

1.2.2.20 机动车在高速公路上行驶，与同车道前车的最小距离不得少于 30 米。

答案：错误

1.2.2.21 机动车在高速公路上行驶，遇有雾、雨、雪、沙尘、冰雹等低能见度气象，能见度小于 50 米时，车速不得超过每小时 20 公里，并尽快驶离高速公路。

答案：正确

1.2.2.22 摩托车车在高速公路上可以占用路肩进行超车。

答案：错误

1.2.2.23 机动车在高速公路上不得倒车、逆行、穿越中央分隔带掉头或者在行车道内停车。

答案：正确

1.2.2.24 机动车在高速公路上行驶，非紧急情况时可以在应急车道行驶或者停车。

答案：错误

1.2.2.25 机动车在高速公路的加速车道或减速车道内，可以超车。

答案：错误

1.2.2.26 机动车发生交通事故后当事人逃逸的，不承担事故的全部责任。

答案：错误

1.2.2.27 当事人对公安机关交通管理部门及其交通警察的处罚有权进行陈述和申辩。

答案：正确

1.2.2.28 两轮摩托车在高速公路行驶时，不得载人。

答案：正确

1.3 刑法（7 题）

1.3.1 选择题：（3 题）

1.3.1.1 摩托车驾驶人因交通肇事___，处 7 年以上 15 年以下有期徒刑。

- A. 发生重大事故的
- B. 致人重伤的
- C. 公私财产遭受重大损失的
- D. 逃逸致人死亡的

答案：D

1.3.1.2 摩托车驾驶人因违反交通运输管理法规发生重大事故，致人重伤、死亡或者使公私财产遭受重大损失构成交通肇事罪的，处___以下有期徒刑或者拘役。

- A. 1 年
- B. 2 年
- C. 3 年
- D. 4 年

答案：C

1.3.1.3 摩托车驾驶人交通肇事后逃逸或者有其他特别恶劣情节的，处___有期徒刑。

- A. 3 年以上 7 年以下
- B. 2 年以上 5 年以下
- C. 1 年以上 3 年以下
- D. 3 年以上 5 年以下

答案：A

1.3.2 判断题：（4题）

1.3.2.1 摩托车驾驶人交通肇事后逃逸的，处3年以上7年以下有期徒刑。

答案：正确

1.3.2.2 摩托车驾驶人交通肇事逃逸致人死亡的，处7年以上15年以下有期徒刑。

答案：正确

1.3.2.3 摩托车驾驶人因违反交通运输管理法规，而发生重特大事故，致人重伤、死亡的处3年以上有期徒刑或者拘役。

答案：错误

1.3.2.4 摩托车驾驶人因违反交通运输管理法规，而发生重特大事故，使公私财产遭受重大损失构成交通肇事罪的，处3年以下有期徒刑或者拘役。

答案：正确

1.4 民法通则（5题）

1.4.1 选择题：（1题）

1.4.1.1 机动车驾驶人在紧急避险时，对因___的损伤不承担民事责任或只承担适当的民事责任。

- A. 自然原因引起
- B. 避险超过必要的限度
- C. 措施不当
- D. 未采取措施

答案：A

1.4.2 判断题：（4题）

1.4.2.1 摩托车驾驶人撞伤行人，应承担交通事故民事责任。

答案：正确

1.4.2.2 摩托车紧急避险中驾驶人对因措施不当对他人造成损伤，不需要承担民事责任。

答案：错误

1.4.2.3 摩托车驾驶人在交通事故中，由于过错侵害他人财产和人身安全的，应当承担民事责任。

答案：正确

1.4.2.4 摩托车正常行驶，意外致人重伤或死亡，驾驶人应当承担刑事责任和相应的行政责任。

答案：错误

1.5 道路交通安全违法行为处理程序规定（17题）

1.5.1 选择题：（6题）

1.5.1.1 具有被盗抢嫌疑不能立即放行的摩托车，交通警察可以当场___。

- A. 没收
- B. 扣留
- C. 拍卖
- D. 罚款

答案：B

1.5.1.2 机动车行驶超过规定时速___的，可以扣留机动车驾驶证至作出处罚决定之日止。

- A. 10%
- B. 30%
- C. 40%

D. 50%

答案：D

1.5.1.3 可以扣留机动车驾驶证的情形是___。

- A. 在一个记分周期内累积记分达到 12 分的
- B. 驾车时吸烟、饮食的
- C. 发生轻微交通事故，未造成财产损失的
- D. 机动车行驶超过规定时速 10%的

答案：A

1.5.1.4 交通警察___，应当强制检验摩托车驾驶人的体内酒精含量。

- A. 对酒精呼吸测试的酒精含量无异议的
- B. 经呼吸测试没超过醉酒临界值的
- C. 对酒后驾驶车辆发生交通事故的
- D. 对非酒后驾驶车辆发生交通事故的

答案：C

1.5.1.5 对酒后行为失控的驾驶人，交通警察现场可以采取___ 措施。

- A. 罚款
- B. 拘留
- C. 使用约束性警械
- D. 批评、教育

答案：C

1.5.1.6 公安机关交通管理部门对___的机动车，经县级以上公安机关交通管理部门批准后，予以收缴并强制报废。

- A. 交通肇事
- B. 超过 10 年使用期
- C. 扣留的拼装或达到报废标准
- D. 检验不合格

答案：C

1.5.2 判断题：（11 题）

1.5.2.1 记分分值满 12 分的机动车驾驶人经考试合格的，原记分分值不予消除。

答案：错误

1.5.2.2 机动车行驶超过规定时速 50%的，对驾驶人进行批评教育，但不得扣留驾驶证。

答案：错误

1.5.2.3 公安机关交通管理部门对酒后违法行为人的检测结果应当电话告知本人。

答案：错误

1.5.2.4 机动车驾驶人以欺骗、贿赂等不正当手段取得驾驶许可的，应当收缴驾驶证，撤销机动车驾驶许可，3 年内不得重新申请机动车驾驶许可。

答案：正确

1.5.2.5 饮酒后驾驶机动车的，公安机关交通管理部门不得扣留驾驶证。

答案：错误

1.5.2.6 醉酒后驾驶机动车的，公安机关交通管理部门可以扣留驾驶证。

答案：正确

1.5.2.7 机动车驾驶人将机动车交由未取得机动车驾驶证的人驾驶的，公安机关交通管理部门可以吊销或扣留驾驶人驾驶证。

答案：正确

- 1.5.2.8 使用伪造机动车号牌、行驶证的，交通警察可以扣留摩托车。
答案：正确
- 1.5.2.9 对非现场处罚，交通违法当事人有权利要求公安交通管理部门提供交通监控记录资料查询。
答案：正确
- 1.5.2.10 机动车驾驶人累计满12分被扣留驾驶证的，可到驾驶证核发地或者违法行为地公安机关交通管理部门参加学习和考试。
答案：正确
- 1.5.2.11 机动车驾驶人未经考试取得的驾驶证，可以通过补考确认其驾驶许可。
答案：错误

1.6 交通事故处理程序规定（11题）

1.6.1 选择题：（4题）

1.6.1.1 发生轻微交通事故，当事人已办理机动车保险的，可以根据___向保险公司索赔。

- A. 知情人证明
- B. 记录交通事故情况的协议书
- C. 当事人的报告
- D. 保险单

答案：B

1.6.1.2 发生交通事故后，当事人拒不撤离现场的，交通警察予以___。

- A. 说服
- B. 强制撤离
- C. 耐心等待
- D. 协商

答案：B

1.6.1.3 发生交通事故造成人员伤亡的，当事人应当立即停车、抢救伤者，同时应___。

- A. 查明事故原因
- B. 与对方协商损害赔偿
- C. 迅速报告执勤的交通警察
- D. 找现场证人

答案：C

1.6.1.4 当事人驾驶摩托车___，承担交通事故全部责任。

- A. 在高速公路上撞伤行人的
- B. 在路口直行与转弯摩托车刮碰的
- C. 在快车道与摩托车刮碰的
- D. 发生事故后故意损坏、伪造现场、毁灭证据的

答案：D

1.6.2 判断题：（7题）

1.6.2.1 发生交通事故后，交通警察进行调解未达成协议的，当事人可以向人民法院提起民事诉讼。

答案：正确

1.6.2.2 交通事故当事人不得自行协商处理损害赔偿事宜。

答案：错误

1.6.2.3 发生交通事故仅损伤部分建筑物，但未造成人身伤亡的，当事人可自行撤离现场。

答案：错误

1.6.2.4 交通事故当事人对交通民警事故认定有异议的，可以向人民法院提起行政诉讼。

答案：错误

1.6.2.5 交通事故调解未达成协议及调解生效后当事人不履行的，当事人可以向人民法院提起民事诉讼。

答案：正确

1.6.2.6 交通事故仅造成重伤且驾驶人愿意承担全部责任的，可自行协商处理。

答案：错误

1.6.2.7 交通事故当事人逃逸造成证据丢失，逃逸当事人承担事故全部责任。

答案：正确

1.7 机动车驾驶证申领和使用规定（16题）

1.7.1 选择题：（8题）

1.7.1.1 吊销机动车驾驶证未满___的不得申请驾驶证。

A. 2年

B. 3年

C. 4年

D. 5年

答案：A

1.7.1.2 依法撤销驾驶许可未满___的不得申请驾驶证。

A. 6年

B. 5年

C. 4年

D. 3年

答案：D

1.7.1.3 申请人在考试过程中有舞弊行为的，___本次考试资格。

A. 情节轻微可以保留

B. 取消

C. 可以保留

D. 可暂时保留

答案：B

1.7.1.4 机动车驾驶人应当于机动车驾驶证有效期满前___内，向机动车驾驶证核发地车辆管理所申请换证。

A. 90日

B. 120日

C. 180日

D. 240日

答案：A

1.7.1.5 超过机动车驾驶证有效期___以上未换证的车辆管理所应当注销其机动车驾驶证。

A. 6个月

B. 1年

C. 2年

D. 3年

答案：B

1.7.1.6 机动车驾驶人违法记分满 12 分的,应当在十五日内到驾驶证核发地或违法地公安机关交通管理部门接受为期___的道路交通安全法律、法规和相关知识的教育。

- A. 十日
- B. 七日
- C. 五日
- D. 三日

答案: B

1.7.1.7 机动车驾驶人在一个记分周期内累积记分达到 12 分的,接受教育后,车辆管理所应当在二十日内对其进行___。

- A. 科目一考试
- B. 罚款并吊销驾驶证
- C. 科目二考试
- D. 科目三考试

答案: A

1.7.1.8 机动车驾驶证记载的驾驶人信息发生变化的,驾驶人应当在___内到驾驶证核发地车辆管理所申请换证。

- A. 60 日
- B. 50 日
- C. 40 日
- D. 30 日

答案: D

1.7.2 判断题:(8 题)

1.7.2.1 机动车驾驶人在一个记分周期内两次以上达到 12 分的,应当参加科目一、科目二和科目三考试。

答案: 错误

1.7.2.2 每个科目的考试成绩单应当有教练员和考试员的签名。

答案: 错误

1.7.2.3 初次取得的机动车驾驶证的有效期为 10 年。

答案: 错误

1.7.2.4 申请人在考试过程中有舞弊行为的,取消本次考试资格,已经通过考试的其它科目成绩仍然有效。

答案: 错误

1.7.2.5 驾驶证遗失,申请补发时应提供社区证明和单位证明。

答案: 错误

1.7.2.6 机动车驾驶证换证、补证业务必须由驾驶人本人亲自办理,而不得委托他人代理。

答案: 错误

1.7.2.7 机动车驾驶人在一个记分周期内两次以上达到 12 分的,车辆管理所还应当在科目一合格 20 日内对其进行科目三考试。

答案: 错误

1.7.2.8 年龄在 60 周岁以上的机动车驾驶人,应当每年进行一次身体检查,并在记分周期结束一年内向车辆管理所提交身体检查证明。

答案: 错误

1.8 机动车登记规定(7 题)

1.8.1 选择题：(2 题)

1.8.8.1 已达到国家强制报废标准的机动车，机动车所有人应当___。

- A. 将摩托车拆卸成零件买给其他使用者
- B. 按废铁卖给废品收购站
- C. 向机动车回收企业交售机动车
- D. 向车辆管理所交验机动车

答案：C

1.8.8.2 对于准予办理变更的机动车，所有人应当在变更后 10 日内向___交验机动车。

- A. 车辆管理所
- B. 运输管理机构
- C. 公安交警中队
- D. 车辆安全技术检测站

答案：A

1.8.2 判断题：(5 题)

1.8.2.1 已达到国家强制报废标准的机动车，所有人应按废铁卖给废品收购站。

答案：错误

1.8.2.2 国家规定免于检验的车型，在初次申领号牌、行驶证时，可不向车辆管理所交验机动车。

答案：错误

1.8.2.3 机动车达到国家规定强制报废标准的，车辆管理所将不予办理注册登记，但可以办理转籍登记。

答案：错误

1.8.2.4 机动车涉及未处理完毕的道路交通违法行为或交通事故的，将不能办理转移登记。

答案：正确

1.8.2.5 申请转移登记的机动车，超过检验有效期限的，应当进行安全技术检验。

答案：正确

1.9 机动车交通事故责任强制保险条例 (13 题)

1.9.1 选择题：(6 题)

1.9.1.1 在我国境内道路上行驶的机动车___，应当依照道路交通安全法的规定投保机动车交通事故责任强制保险。

- A. 所有人和管理人
- B. 担保人
- C. 乘坐人
- D. 驾驶人

答案：A

1.9.1.2 机动车交通事故责任强制保险赔偿的责任对象是发生交通事故造成___。

- A. 驾驶人
- B. 本车人员、被保险人以外的受害人
- C. 被保险人
- D. 乘车人

答案：B

1.9.1.3 多次发生道路交通安全违法行为、道路交通事故，或者发生重大道路交通事故的

被保险车，保险公司应当___保险费率的幅度。

- A. 保持
- B. 降低
- C. 提高
- D. 适当调整

答案：C

1.9.1.4 在道路交通事故中被保险人没有过错的，保险公司应当___其保险费率。

- A. 适当提高
- B. 降低
- C. 适当降低
- D. 不提高

答案：D

1.9.1.5 机动车交通事故责任强制保险的保险期间为___。

- A. 4年
- B. 3年
- C. 2年
- D. 1年

答案：D

1.9.1.6 被保险人与保险公司对赔偿有争议的，可以依法申请仲裁或向___。

- A. 保监会投诉
- B. 保险公司反映情况
- C. 当地公安机关交通管理部门报告
- D. 人民法院提起诉讼

答案：D

1.9.2 判断题：(7题)

1.9.2.1 机动车交通事故责任强制保险赔偿的责任对象包括本车乘车人。

答案：错误

1.9.2.2 投保机动车交通事故责任强制保险后，被保险机动车无道路交通安全违法行为和未发生道路交通事故的，保险公司应当在下一年度降低其保险费率。

答案：正确

1.9.2.3 投保机动车交通事故责任强制保险后，被保险机动车发生交通事故，但在交通事故中被保险人没有过错的，保险公司应当在下一年度降低其保险费率。

答案：错误

1.9.2.4 驾驶人醉酒后发生道路交通事故的，造成受害人财产损失的，保险公司不承担赔偿责任。

答案：正确

1.9.2.5 被保险人故意制造道路交通事故的，造成受害人财产损失的，保险公司不承担赔偿责任。

答案：正确

1.9.2.6 机动车所有人、管理人未按照规定投保机动车交通事故责任强制保险的，公安机关交通管理部门可以扣留机动车。

答案：正确

1.9.2.7 上道路行驶的机动车未放置保险标志的，公安机关交通管理部门可以罚款，但不得扣留机动车。

答案：错误

2. 道路交通信号及其含义（共 244 题）

2.1 交通信号灯（27 题）

2.1.1 选择题：（14 题）

2.1.1.1 交通信号灯红灯亮时，表示___。

- A. 准许通行
- B. 禁止通行
- C. 警示慢行
- D. 停车让行

答案：B

2.1.1.2 交通信号灯绿灯亮时，表示___。

- A. 禁止通行
- B. 加速通行
- C. 准许通行
- D. 停车让行

答案：C

2.1.1.3 交通信号灯黄灯亮时，表示___。

- A. 禁止通行
- B. 准许通行
- C. 停车
- D. 警示

答案：D

2.1.1.4 交通信号灯绿灯亮时，准许车辆通行，___。

- A. 右转弯摩托车优先通行
- B. 左转弯摩托车优先通行
- C. 转弯车辆不得妨碍被放行的直行车辆、行人通行
- D. 转弯车辆不准许通行

答案：C

2.1.1.5 交通信号灯红灯亮时，___车辆在不妨碍被放行的车辆和行人通行的情况下，可以通行。

- A. 右转弯
- B. 左转弯
- C. T形路口的转弯
- D. 各方行驶

答案：A

2.1.1.6 交通信号灯红灯亮时，车辆应当停在___。

- A. 停止线以内
- B. 人行横道线上
- C. 交叉路口内
- D. 停止线以外

答案：D

2.1.1.7 交通信号灯黄灯亮时，___。

- A. 允许车辆通行

- B. 已越过停止线的车辆可以继续通行
- C. 允许车辆左转弯
- D. 车辆应当加速通过

答案：B

2.1.1.8 红色叉形灯或者箭头灯亮时，本车道___。

- A. 禁止车辆通行
- B. 准许车辆左转弯
- C. 准许车辆右转弯
- D. 准许车辆通行

答案：A

2.1.1.9 绿色方向指示信号灯的箭头方向向上，准许车辆___。

- A. 左转
- B. 右转
- C. 直行
- D. 掉头

答案：C

2.1.1.10 红色方向指示信号灯的箭头方向向上，禁止车辆___。

- A. 左转
- B. 右转
- C. 直行
- D. 掉头

答案：C

2.1.1.11 红色方向指示信号灯的箭头方向向左，禁止车辆___。

- A. 左转
- B. 右转
- C. 直行
- D. 掉头

答案：A

2.1.1.12 红色方向指示信号灯的箭头方向向右，禁止车辆___。

- A. 左转
- B. 右转
- C. 直行
- D. 掉头

答案：B

2.1.1.13 闪光警告信号灯为持续闪烁的黄灯，提示车辆、行人___。

- A. 加速通过
- B. 禁止通行
- C. 可以继续通行
- D. 通行时注意瞭望，确认安全后通过

答案：D

2.1.1.14 道路与铁路平面交叉道口有两个红灯交替闪烁或者一个红灯亮时，___。

- A. 车辆在确保安全的情况下可以通行
- B. 禁止车辆、行人通行
- C. 禁止车辆通行，但行人可以通行

D. 禁止行人通行，但车辆可以通行

答案：B

2.1.2 判断题：（13 题）

2.1.2.1 交通信号灯红灯亮时，准许车辆通行。

答案：错误

2.1.2.2 交通信号灯绿灯亮时，警示车辆安全通过。

答案：错误

2.1.2.3 交通信号灯黄灯亮时，准许车辆通行。

答案：错误

2.1.2.4 红色叉形灯或者箭头灯亮时，本车道准许车辆右转弯。

答案：错误

2.1.2.5 红色方向指示信号灯的箭头方向向左表示准许车辆左转弯。

答案：错误

2.1.2.6 绿色方向指示信号灯的箭头方向向上，表示准许车辆直行。

答案：正确

2.1.2.7 绿色方向指示信号灯的箭头方向向右，表示准许车辆右转弯。

答案：正确

2.1.2.8 红色方向指示信号灯的箭头方向向右，表示准许车辆右转弯。

答案：错误

2.1.2.9 绿色方向指示信号灯的箭头方向向左，表示准许车辆直行。

答案：错误

2.1.2.10 闪光警告信号灯为持续闪烁的黄灯，提示车辆通行时注意瞭望，确认安全后通过。

答案：正确

2.1.2.11 道路与铁路平面交叉道口有两个红灯交替闪烁时，禁止车辆、行人通行。

答案：正确

2.1.2.12 道路与铁路平面交叉道口有一个红灯亮时，车辆在确保安全的情况下可以通行。

答案：错误

2.1.2.13 通过铁路道口遇红灯熄灭时，表示允许车辆、行人通行。

答案：正确

2.2 交通标志（155 题）

2.2.1 选择题：（96 题）

2.2.1.1 图中所示标志是___。



A. 警告标志

B. 禁令标志

C. 指示标志

D. 指路标志

答案：A

2.2.1.2 警告标志的作用是警告___。

A. 车辆、行人注意危险地点

- B. 车辆、行人不准通行
- C. 驾驶人前面有弯路
- D. 驾驶人前面容易拥堵

答案：A

2.2.1.3 图中所示标志是___。



- A. 警告标志
- B. 禁令标志
- C. 指示标志
- D. 指路标志

答案：D

2.2.1.4 指路标志的作用是向车辆___。

- A. 警告车辆和行人注意危险地点
- B. 禁止或限制车辆和行人交通行为
- C. 指示车辆和行人行进
- D. 传递道路方向、地点、距离信息

答案：D

2.2.1.5 图中所示标志是___。



- A. 警告标志
- B. 禁令标志
- C. 指示标志
- D. 指路标志

答案：B

2.2.1.6 禁令标志的作用是___。

- A. 警告车辆和行人注意危险地点
- B. 传递道路方向、地点、距离信息
- C. 指示车辆和行人行进
- D. 禁止或限制车辆和行人交通行为

答案：D

2.2.1.7 图中所示标志是___。



- A. 警告标志
- B. 禁令标志
- C. 指示标志
- D. 指路标志

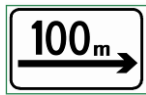
答案：C

2.2.1.8 指示标志是指指示车辆、行人___。

- A. 注意危险地点
- B. 按标志指示的路线、方向行驶
- C. 注意行驶
- D. 可以通行的方向，但可以不按指示的方向通行

答案：B

2.2.1.9 图中所示标志是___。



- A. 警告标志
- B. 禁令标志
- C. 指路标志
- D. 辅助标志

答案：D

2.2.1.10 凡主标志无法完整表达或指示其规定时，为维护行车安全与交通畅通的需要，应设置___。

- A. 指示标记
- B. 警示标记
- C. 辅助标志
- D. 立面标记

答案：C

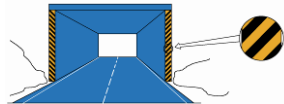
2.2.1.11 图中所示标志是___。



- A. 旅游区标志
- B. 指示标志
- C. 指路标志
- D. 辅助标志

答案：D

2.2.1.12 图中所示是___。



- A. 减速标线
- B. 限宽标记
- C. 隧道标线
- D. 立面标记

答案：D

2.2.1.13 图中标志的含义是___。



- A. 向右行驶
- B. 绕行
- C. 向左急弯路
- D. 向右急弯路

答案：C

2. 2. 1. 14 图中标志的含义是___。



- A. 下坡
- B. 上行
- C. 下陡坡
- D. 上陡坡

答案：D

2. 2. 1. 15 图中标志的含义是___。



- A. 下陡坡
- B. 滑行
- C. 下行
- D. 上陡坡

答案：A

2. 2. 1. 16 图中标志的含义是___。



- A. 两侧变窄
- B. 左侧变窄
- C. 右侧变窄
- D. 减速

答案：B

2. 2. 1. 17 图中标志的含义是___。



- A. 两侧变窄
- B. 左侧变窄
- C. 右侧变窄
- D. 减速

答案：C

2.2.1.18 图中标志的含义是___。



- A. 注意横风
- B. 注意行人
- C. 红灯亮
- D. 注意交通信号灯

答案：D

2.2.1.19 图中标志的含义是___。



- A. 注意落石
- B. 傍山险路
- C. 注意滑坡
- D. 下陡坡

答案：A

2.2.1.20 图中标志的含义是___。



- A. 注意危险
- B. 注意横风
- C. 注意落石
- D. 傍山险路

答案：B

2.2.1.21 图中标志的含义是___。



- A. 易滑
- B. 堤坝路

C. 傍山险路

D. 下陡坡

答案：C

2.2.1.22 图中标志的含义是___。



A. 村庄

B. 隧道

C. 漫水桥

D. 堤坝路

答案：D

2.2.1.23 图中标志的含义是___。



A. 渡口

B. 堤坝路

C. 驼峰桥

D. 漫水桥

答案：A

2.2.1.24 图中标志的含义是___。



A. 傍山险路

B. 村庄

C. 注意落石

D. 学校

答案：B

2.2.1.25 图中标志的含义是___。



A. 隧道

B. 涵洞桥

C. 驼峰桥

D. 漫水桥

答案：C

2.2.1.26 图中标志的含义是___。



- A. 傍山险路
- B. 注意行人
- C. 注意儿童
- D. 施工

答案：D

2.2.1.27 图中标志的含义是___。



- A. 过水路面
- B. 注意溅水
- C. 易滑
- D. 驼峰桥

答案：A

2.2.1.28 图中标志的含义是___。



- A. 堤坝路
- B. 易滑
- C. 急转弯
- D. 傍山险路

答案：B

2.2.1.29 图中标志的含义是___。



- A. 驼峰路
- B. 房屋
- C. 隧道
- D. 村庄

答案：C

2.2.1.30 图中标志的含义是___。



- A. 前方事故
- B. 禁行
- C. 停车
- D. 注意危险

答案：D

2.2.1.31 图中标志的含义是___。



- A. 注意儿童
- B. 人行横道
- C. 学校
- D. 村庄

答案：A

2.2.1.32 图中标志的含义是___。



- A. 急弯路
- B. 连续弯路
- C. 曲线行驶
- D. 禁止转弯

答案：B

2.2.1.33 图中标志的含义是___。



- A. 顺序行驶
- B. 反向弯路
- C. 环形交叉路口
- D. 绕行

答案：C

2.2.1.34 图中标志的含义是___。



- A. 向左或向右转弯
- B. 禁止通行
- C. 双向通行
- D. 十字交叉路口

答案：D

2.2.1.35 图中标志的含义是___。



- A. 路面不平
- B. 驼峰桥
- C. 隧道
- D. 堤坝路

答案：A

2.2.1.36 图中标志的含义是___。



- A. 禁止牲畜通行
- B. 注意牲畜
- C. 牲畜通行
- D. 畜力车

答案：B

2.2.1.37 图中标志的含义是___。



- A. 桥面变宽
- B. 两侧变宽
- C. 窄桥
- D. 驼峰桥

答案：C

2.2.1.38 图中标志的含义是___。



- A. 禁止通过铁道路口
 - B. 人行横道
 - C. 无人看守铁道路口
 - D. 有人看守铁道路口
- 答案：D

2.2.1.39 图中标志的含义是___。



- A. 无人看守铁道路口
 - B. 禁止通行
 - C. 禁止通过铁道路口
 - D. 有人看守铁道路口
- 答案：A

2.2.1.40 图中标志的含义是___。



- A. 禁止非机动车通行
 - B. 注意非机动车
 - C. 非机动车通行
 - D. 禁止自行车通行
- 答案：B

2.2.1.41 图中标志的含义是___。



- A. 前方 50m 处铁道路口
 - B. 前方 100m 处铁道路口
 - C. 前方 150m 处铁道路口
 - D. 前方 500m 处铁道路口
- 答案：C

2.2.1.42 图中标志的含义是___。



- A. 注意危险
- B. 禁止小型汽车通行
- C. 注意追尾
- D. 事故易发路段

答案：D

2.2.1.43 图中标志的含义是___。



- A. 慢行
- B. 禁止慢行
- C. 快行
- D. 拥堵路段

答案：A

2.2.1.44 图中标志的含义是___。



- A. 左侧绕行
- B. 左右绕行
- C. 右侧绕行
- D. 禁止绕行

答案：B

2.2.1.45 图中标志的含义是___标志。



- A. 禁止手扶拖拉机驶入
- B. 禁止小型货车驶入
- C. 禁止后三轮摩托车驶入
- D. 禁止摩托车驶入

答案：C

2.2.1.46 图中标志的含义是___标志。



- A. 禁止摩托车驶入
- B. 禁止自行车驶入
- C. 禁止人力三轮车驶入
- D. 禁止后三轮摩托车驶入

答案：A

2. 2. 1. 47 图中标志的含义是___。



- A. 准许向右转弯
- B. 禁止向右变更车道
- C. 禁止向右掉头
- D. 禁止向右转弯

答案：D

2. 2. 1. 48 图中标志的含义是___。



- A. 禁止掉头
- B. 禁止左转弯
- C. 准许掉头
- D. 准许左转弯

答案：A


2. 2. 1. 49 图中标志的含义是___。



- A. 禁止借道行驶
- B. 禁止超车
- C. 解除禁止超车
- D. 准许超车

答案：B

2. 2. 1. 50 图中标志的含义是___。



- A. 禁止借道行驶
- B. 禁止超车
- C. 解除禁止超车
- D. 禁止变更车道

答案：C

2.2.1.51 图中标志的含义是___。



- A. 准许向左转弯
- B. 禁止向左转弯
- C. 准许向左掉头
- D. 禁止向左变更车道

答案：B

2.2.1.52 图中标志的含义是___。



- A. 解除禁止鸣喇叭
- B. 准许鸣喇叭
- C. 禁止听广播
- D. 禁止鸣喇叭

答案：D

2.2.1.53 图中标志的含义是___。



- A. 限制质量
- B. 道路标号
- C. 限制速度
- D. 解除限制速度

答案：C

2.2.1.54 图中标志的含义是___。



- A. 限制质量
- B. 道路标号
- C. 限制速度
- D. 解除限制速度

答案：D

2.2.1.55 图中标志的含义是___。



- A. 禁止双向驶入通行
- B. 会车先行
- C. 双向交通
- D. 会车让行

答案：D

2.2.1.56 图中标志的含义是___。



- A. 准许直行
- B. 禁止直行
- C. 快速直行
- D. 禁止驶入

答案：B

2.2.1.57 图中标志的含义是___。



- A. 禁止直行和向右转弯
- B. 准许直行和向左转弯
- C. 禁止直行和向左转弯
- D. 准许直行和向右转弯

答案：C

2.2.1.58 图中标志的含义是___。



- A. 禁止直行和向右转弯
- B. 准许直行和向左转弯
- C. 禁止直行和向左转弯
- D. 准许直行和向右转弯

答案：A

2.2.1.59 图中标志的含义是___。



- A. 准许向左和向右转弯
- B. 禁止向左和向右转弯
- C. 准许向左转弯
- D. 准许向右转弯

答案：B

2.2.1.60 图中标志的含义是___。



- A. 禁止车辆长时停放
- B. 禁止机动车驶入
- C. 禁止驶入
- D. 禁止车辆临时或长时停放

答案：D

2.2.1.61 图中标志的含义是___。



- A. 禁止车辆长时停放
- B. 禁止车辆临时或长时停放
- C. 禁止车辆临时停放
- D. 禁止机动车驶入

答案：A

2.2.1.62 图中标志的含义是___。



- A. 停车检查
- B. 禁止通行
- C. 禁止驶入
- D. 停车让行

答案：A

2.2.1.63 图中标志的含义是___。



- A. 禁止车辆临时停放
- B. 停车让行
- C. 禁止车辆临时或长时停放
- D. 禁止机动车驶入

答案：B

2. 2. 1. 64 图中标志的含义是___。



- A. 停车让行
- B. 会车让行
- C. 禁止让行
- D. 减速让行

答案：D

2. 2. 1. 65 图中标志表示只准一切车辆___。



- A. 直行
- B. 驶入
- C. 单行
- D. 禁行

答案：A

2. 2. 1. 66 图中标志表示只准一切车辆___。



- A. 向右转弯
- B. 靠右侧行驶
- C. 靠左侧行驶
- D. 向左转弯

答案：D

2. 2. 1. 67 图中标志表示只准一切车辆___。



- A. 向右转弯
- B. 单向行驶
- C. 靠右侧行驶
- D. 靠左侧行驶

答案：A

2. 2. 1. 68 图中标志表示只准一切车辆___。



- A. 直行和向右转弯
- B. 直行和向左转弯
- C. 车道行驶方向
- D. 前方向左转弯

答案：B

2. 2. 1. 69 图中标志表示只准一切车辆___。



- A. 直行和向左转弯
- B. 车道行驶方向
- C. 直行和向右转弯
- D. 前方为右转路口

答案：C

2. 2. 1. 70 图中标志表示只准一切车辆___。



- A. 禁止向左和向右转弯
- B. 禁止直行
- C. 左右掉头
- D. 向左和向右转弯

答案：D

2. 2. 1. 71 图中标志表示只准一切车辆___。



- A. 靠右侧道路行驶
- B. 靠右侧停车
- C. 向右转弯
- D. 靠左侧道路行驶

答案：A

2. 2. 1. 72 图中标志表示只准一切车辆___。



- A. 向左转弯
- B. 靠左侧道路行驶
- C. 靠左侧停车
- D. 靠右侧道路行驶

答案：B

2. 2. 1. 73 图中标志表示只准一切___行驶。



- A. 非机动车道
- B. 小客车
- C. 一切机动车
- D. 出租车

答案：C

2. 2. 1. 74 图中标志表示该路段只供___。



- A. 机动车通行
- B. 自行车专用
- C. 自行车停放
- D. 非机动车行驶

答案：D

2. 2. 1. 75 图中标志表示该车道只供___。



- A. 机动车行驶
- B. 小客车单向通行
- C. 试车专用
- D. 小客车专用

答案：A

2.2.1.76 图中标志表示该车道是___。



- A. 禁行线
- B. 直行车道
- C. 单行线
- D. 快速车道

答案：B

2.2.1.77 图中标志表示该车道是___。



- A. 直行和左转弯车道
- B. 转弯直行车道
- C. 分向行驶车道
- D. 直行和右转弯车道

答案：C

2.2.1.78 图中标志表示只准车辆___。



- A. 左转弯
- B. 掉头
- C. 双向行驶
- D. 靠右环行

答案：D

2.2.1.79 图中标志表示该车道是___。



- A. 直行和右转合用车道
- B. 前方向右转弯车道
- C. 直行和左转弯车道
- D. 前方向左转弯车道

答案：A

2.2.1.80 图中标志表示机动车驶入前方道路的___。



- A. 平均时速限制
- B. 最低时速限制
- C. 解除最低限速
- D. 最高时速限制

答案：B

2. 2. 1. 81 图中标志表示该处为___。



- A. 学生通道
- B. 步行街
- C. 人行横道
- D. 儿童通道

答案：C

2. 2. 1. 82 图中标志表示机动车行至该标志处___。



- A. 禁止听广播
- B. 解除禁止鸣喇叭
- C. 禁止鸣喇叭
- D. 必须鸣喇叭

答案：D

2. 2. 1. 83 图中标志表示该车道只供___。



- A. 机动行驶
- B. 自行车专用
- C. 自行车停放
- D. 非机动车行驶

答案：D

2. 2. 1. 84 图中标志表示允许机动车___。



- A. 绕行
- B. 掉头
- C. 转弯
- D. 倒车

答案：B

2. 2. 1. 85 图中标志预告前方是___。



- A. 道路管理分界
- B. 互通式立交
- C. 十字交叉路口
- D. 分岔处

答案：C

2. 2. 1. 86 图中标志预告前方是___。



- A. 道路管理分界
- B. 交叉路口
- C. 分岔处
- D. 互通式立交

答案：D

2. 2. 1. 87 图中标志的含义是___。



- A. 停车场
- B. 服务区
- C. 禁止停车
- D. 此路不通

答案：A

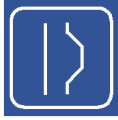
2. 2. 1. 88 图中标志的含义是___。



- A. “T”型路口
- B. 此路不通
- C. 交叉路口
- D. 停车场

答案：B

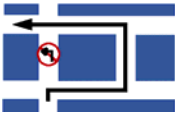
2.2.1.89 图中标志表示前方是___。



- A. 避车道
- B. 右侧变宽
- C. 紧急停车带
- D. 靠右行驶

答案：A

2.2.1.90 图中标志用于指示前方路口车辆___的正确行驶路线。



- A. 掉头
- B. 绕行
- C. 转弯
- D. 变道

答案：B

2.2.1.91 图中标志是___，表示前方有分流车道，车辆应按箭头方向直行或驶出主车道。



- A. 合流诱导标
- B. 交叉口诱导标
- C. 分流诱导标
- D. 出口诱导标

答案：C

2.2.1.92 图中标志是___，表示前方有合流车道，注意与驶入主车道的车辆保持安全距离。



- A. 合流诱导标
- B. 交叉口诱导标
- C. 分流诱导标
- D. 出口诱导标

答案：A

2.2.1.93 图中标志是___，用于引导车辆驾驶人改变行驶方向。



- A. 合流诱导标
- B. 线形诱导标

- C. 分流诱导标
- D. 交叉口诱导标

答案：B

2.2.1.94 图中标志的含义是___。



- A. 左侧通行
- B. 右侧通行
- C. 禁止通行
- D. 两侧通行

答案：D

2.2.1.95 图中标志的含义是___。



- A. 左侧通行
- B. 右侧通行
- C. 两侧通行
- D. 禁止通行

答案：A

2.2.1.96 图中标志的含义是___。



- A. 地名
- B. 旅游区距离
- C. 旅游区方向
- D. 出口预告

答案：B

2.2.2 判断题：(59 题)

2.2.2.1 图中是T型交叉路口标志。



答案：正确

2.2.2.2 图中是T型交叉路口标志。



答案：错误

2.2.2.3 图中是向右急弯路标志。



答案：正确

2.2.2.4 图中是急弯路标志。



答案：错误

2.2.2.5 图中是连续弯路标志。



答案：正确

2.2.2.6 图中是双向弯路标志。



答案：错误

2.2.2.7 图中是会车让行标志。



答案：错误

2.2.2.8 图中是人行横道标志。



答案：错误

2.2.2.9 图中是注意交通信号灯标志。



答案：正确

2.2.2.10 图中是易滑标志。



答案：正确

2.2.2.11 图中是无人看守铁路道口标志。



答案：正确

2.2.2.12 图中是村庄标志。



答案：正确

2.2.2.13 图中是洞口标志。



答案：错误

2.2.2.14 图中是前方 100m 处铁道路口标志。



答案：错误

2.2.2.15 图中是前方150m处铁道路口标志。



答案：正确

2.2.2.16 图中是慢行标志。



答案：正确

2.2.2.17 图中是禁止左侧绕行标志。



答案：错误

2.2.2.18 图中是右侧绕行标志。



答案：正确

2.2.2.19 图中是禁止通行标志。



答案：正确

2.2.2.20 图中是禁止通行标志。



答案：错误

2.2.2.21 图中是禁止机动车驶入标志。



答案：正确

2.2.2.22 图中是禁止超车标志。



答案：正确

2.2.2.23 图中是停车检查标志。



答案：正确

2.2.2.24 图中是停车让行标志。



答案：错误

2.2.2.25 图中是禁止向左转弯标志。



答案：正确

2.2.2.26 图中是向左向右转弯标志。



答案：错误

2.2.2.27 图中是禁止直行和向右转弯标志。



答案：正确

2.2.2.28 图中是禁止车辆临时停放标志。



答案：错误

2.2.2.29 图中是禁止车辆长期停放标志。



答案：错误

2.2.2.30 图中是禁止掉头标志。



答案：错误

2.2.2.31 图中是靠右侧道路行驶标志。



答案：错误

2.2.2.32 图中是单行路标志。



答案：正确

2.2.2.33 图中是会车先行标志。



答案：正确

2.2.2.34 图中是支路先行标志。



答案：错误

2.2.2.35 图中是小客车道标志。



答案：错误

2.2.2.36 图中是注意行人标志。



答案：错误

2.2.2.37 图中是立交直行和右转弯行驶标志。



答案：正确

2.2.2.38 图中是立交直行和向左转弯标志。



答案：正确

2.2.2.39 图中是向左转弯标志。



答案：错误

2.2.2.40 图中是单行线标志。



答案：错误

2.2.2.41 图中是向右转弯标志。



答案：错误

2.2.2.42 图中是机动车车道标志。



答案：正确

2.2.2.43 图中是事故易发路段标志。



答案：错误

2.2.2.44 图中是方向、地点标志。



答案：正确

2.2.2.45 图中是高速公路入口预告标志。



答案：正确

2.2.2.46 图中是高速公路起点标志。



答案：错误

2.2.2.47 图中是高速公路出口预告标志。



答案：正确

2.2.2.48 图中是两侧通行标志。



答案：错误

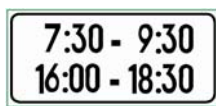
2.2.2.49 立面标记是提醒驾驶人注意，在行车道或近旁有高出路面的构造物，以防止发生碰撞的标记。

答案：正确

2.2.2.50 当主标志无法完整表达或指示其规定时，应设置辅助标志。

答案：正确

2.2.2.51 图中标志的含义是确定主标志规定时间的范围。




答案：正确

2.2.2.52 图中标志的含义是确定主标志规定区间距离为前方 200 米以外的路段。




答案：错误

2.2.2.53 图中标志的含义是确定主标志规定区间距离为左侧 100 米内的路段。



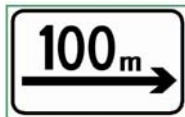
答案：正确

2.2.2.54 图中标志的含义是确定主标志规定区间距离为左右各 50 米以外的路段。



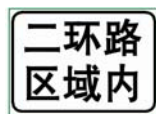
答案：错误

2.2.2.55 图中标志的含义是确定主标志规定区间距离为向前 100 米。



答案：错误

2.2.2.56 图中标志的含义是确定主标志规定的区域。



答案：正确

2.2.2.57 图中标志的含义是表示警告、禁令理由。



答案：正确

2.2.2.58 图中标志的含义是表示前方 300 米道路封闭。



答案：正确

2.2.2.59 图中标志的含义是表示车辆向右行驶。



答案：错误

2.3 交通标线（40 题）

2.3.1 选择题：（26 题）

2.3.1.1 交通标线按功能分为___标线。

- A. 指路
- B. 禁令
- C. 车道线、出入口
- D. 指示、禁止、警告

答案：D

2.3.1.2 图中所示标线是___。



- A. 警告标线
- B. 禁止标线
- C. 指示标线
- D. 辅助标线

答案：C


2.3.1.3 图中所示黄色双实线是___。



- A. 警告标线
- B. 禁止标线
- C. 指示标线
- D. 辅助标线

答案：B

2.3.1.4 图中所示黄色中心双实线是___。



- A. 警告标线
 - B. 禁止标线
 - C. 指示标线
 - D. 辅助标线
- 答案：A

2.3.1.5 交通标线按功能分为___标线。

- A. 指路
 - B. 禁令
 - C. 车道线、出入口
 - D. 指示、禁止、警告
- 答案：D

2.3.1.6 如图所示为车道分界线，用来分隔___。



- A. 同方向行驶的车辆
 - B. 反方向行驶的车辆
 - C. 机动车、非机动车和行人
 - D. 机动车和非机动车
- 答案：A

2.3.1.7 如图所示为人行横道线，是行人横穿___的标线。



- A. 街道
 - B. 车行道
 - C. 铁路道口
 - D. 高速公路
- 答案：B

2.3.1.8 图中黄色标线为___。



- A. 车行道边缘线
- B. 车行道分界线
- C. 双向两车道路面中心线
- D. 禁止变换车道线

答案：C

2.3.1.9 图中白色标线为___。



- A. 车行道边缘线
- B. 禁止变换车道线
- C. 双向两车道路面中心线
- D. 车行道分界线

答案：D

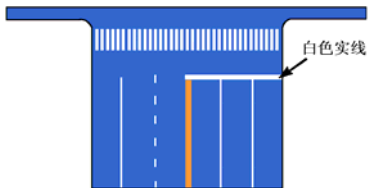
2.3.1.10 图中黄色标线的含义是___。



- A. 划分同方向的车行道
- B. 表示道路边缘
- C. 准许车辆跨线超车
- D. 禁止车辆跨线超车或压线行驶

答案：D

2.3.1.11 图中垂直于路边的白色实线为___。



- A. 停止线
- B. 让行线
- C. 减速让行线
- D. 禁驶区标线

答案：A

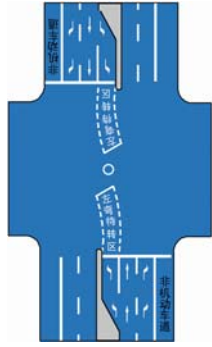
2.3.1.12 如图所示白色菱形图案是___。



- A. 减速让行线
- B. 人行横道预告标示
- C. 减速让行线
- D. 禁驶区标线

答案：B

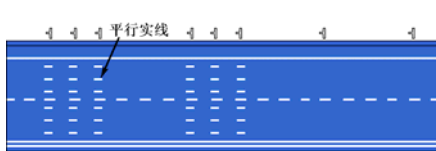
2.3.1.13 图中所示路口内白色虚线区为___。



- A. 左转弯导向
- B. 右转弯待转区
- C. 右转弯导向
- D. 左转弯待转区

答案：D

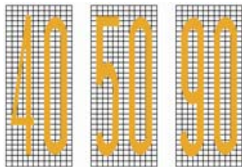
2.3.1.14 图中所示垂直于路边的白色平行实线（斑马线）为___标线。



- A. 高速公路车距确认
- B. 人行横道
- C. 停车带
- D. 收费岛地面

答案：A

2.3.1.15 如图所示，限制速度标记，表示机动车___。



- A. 平均行驶速度标准
- B. 最低行驶速度不得低于标记所示规定
- C. 最高行驶速度不得超过标记所示规定
- D. 设计时速标准

答案：C

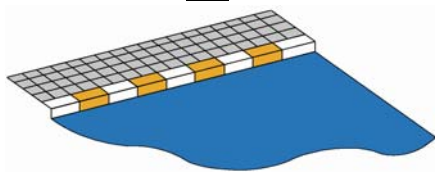
2.3.1.16 如图所示为___，实线一侧禁止车辆越线超车或向左转弯。



- A. 路面中心线
- B. 车行道分界线
- C. 人行横道线
- D. 中心黄色虚实线

答案：D

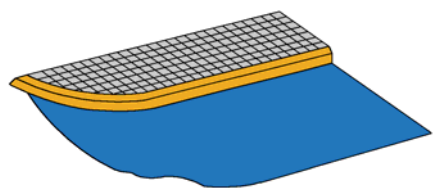
2.3.1.17 图中所示为__标线。



- A. 禁止路边长时停放车辆
- B. 禁止路边临时停放车辆
- C. 禁止路边长时或临时停放车辆
- D. 路边可以长时或临时停放车辆

答案：A

2.3.1.18 图中所示为__标线。



- A. 禁止路边临时停放车辆
- B. 禁止路边长时或临时停放车辆
- C. 禁止路边长时停放车辆
- D. 路边可以长时或临时停放车辆

答案：B

2.3.1.19 图中所示均是__标线。



- A. 禁驶区
- B. 禁停区
- C. 中心圈
- D. 简化网状

答案：C

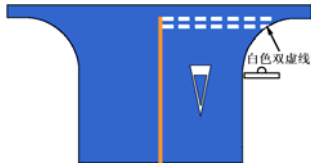
2.3.1.20 图中所示白色双实线为__标线。



- A. 禁止停车
- B. 停车
- C. 非机动车停车
- D. 停车让行

答案：D

2.3.1.21 图中所示白色双虚线为__标线。



- A. 减速让行
- B. 禁止停车
- C. 停车让行
- D. 非机动车停车

答案：A

2.3.1.22 图中所示为___标线。



- A. 中心圈
- B. 表示禁止临时停车的简化网状
- C. 禁止掉头标记
- D. 停车位

答案：B

2.3.1.23 图中所示为___标线。



- A. 禁行
- B. 禁止转弯
- C. 禁止掉头
- D. 禁止停车

答案：C

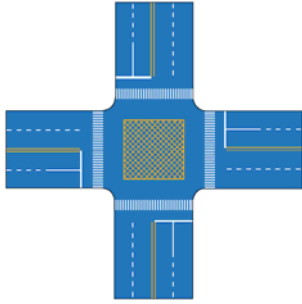
2.3.1.24 如图所示中心黄色虚实线，表示___。



- A. 虚线一侧不准许车辆越线超车
- B. 实线一侧准许车辆向左转弯
- C. 实线一侧禁止车辆越线超车或向左转弯
- D. 虚线一侧不准许车辆向左转弯


答案：C

2.3.1.25 图中所示路口中心黄色标线为___。



- A. 网状线
 - B. 非机动车禁驶区标线
 - C. 中心圈
 - D. 导流线
- 答案：A

2.3.1.26 图中所示斑马状标线为___。



- A. 停车岛
 - B. 路口导流线
 - C. 人行横道线
 - D. 非机动车等待区
- 答案：B

2.3.2 判断题：（14 题）

2.3.1.1 图中所示标线是辅助标线。



答案：错误

2.3.1.2 图中所示标线是警告标线。




答案：错误

2.3.2.3 如图所示黄色双向两车道路面中心虚线，用于分隔同向行驶的交通流。



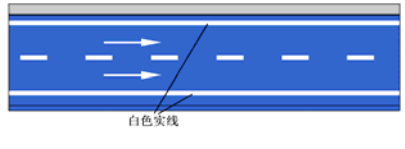
答案：错误

2.3.2.4 如图所示白色车行道分界线，用来分隔对向行驶的交通流。



答案：错误

2.3.2.5 如图所示白色实线是车道边缘线，用来指示机动车道的边缘。



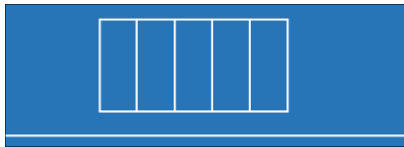
答案：正确

2.3.2.6 如图所示白色标线框内的区域表示车辆停放位置。



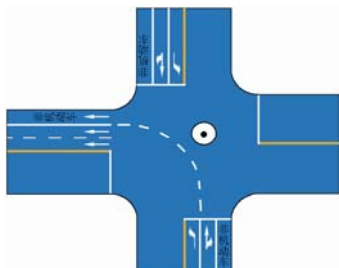
答案：正确

2.3.2.7 如图所示白色标线框内的区域表示禁止车辆停放位置。




答案：错误

2.3.2.8 如图所示，白色左转导向虚线，表示左转的机动车在导向线的右侧行驶。



答案：错误

2.3.2.9 如图所示，路面上施划的导向箭头线表示车辆应该行驶的方向。



答案：正确

2.3.2.10 如图所示，是中心黄色虚实线，表示实线一侧禁止车辆越线超车或向左转弯，虚线一侧不准许车越线超车或向左转弯。



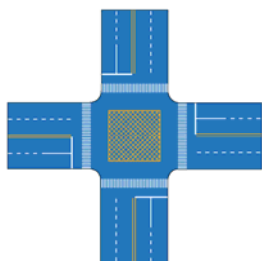
答案：错误

2.3.2.11 如图所示中心圈，用以区分车辆大、小转弯，及交叉路口车辆左右转弯的指示，车辆不得压线行驶。



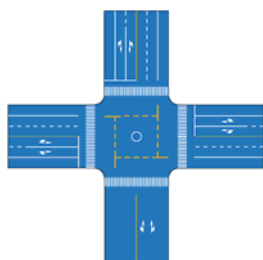
答案：正确

2.3.2.12 如图所示路口中心黄色网状线，用于告示驾驶人禁止在该区域内临时停车，防止交通阻塞。



答案：正确

2.3.2.13 如图所示路口中心黄色标线内为非机动车禁驶区，用于告示驾驶人禁止在该区域内临时停车。



答案：错误

2.3.2.14 图中所示斑马状导流线，表示车辆应按规定的路线行驶，但可以压线或越线。



答案：错误

2.4 交通警察手势信号（22 题）

2.4.1 选择题：（11 题）

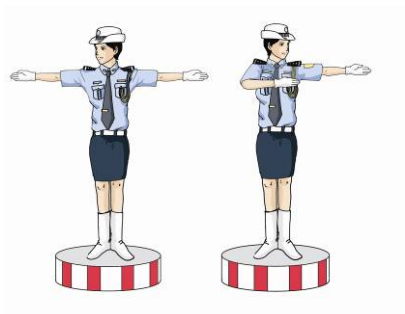
2.4.1.1 图中交通警察的手势为___信号。



- A. 直行
- B. 转弯
- C. 停止
- D. 靠边停车

答案：A

2.4.1.2 图中交通警察的手势为__信号。



- A. 转弯
- B. 直行辅助
- C. 停止
- D. 直行

答案：B

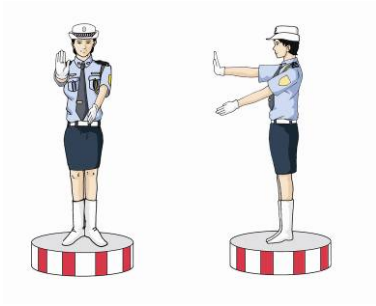
2.4.1.3 图中交通警察的手势为__信号。



- A. 靠边停车
- B. 左转弯辅助
- C. 左大转弯
- D. 右转弯


答案：C

2.4.1.4 图中警察手势为__信号。



- A. 左转弯
 - B. 左转弯辅助
 - C. 停止
 - D. 左小转弯
- 答案：D

2.4.1.5 图中警察手势为__信号。



- A. 左转弯待转
 - B. 左转弯
 - C. 左小转弯辅助
 - D. 左小转弯
- 答案：A

2.4.1.6 图中警察手势为__信号。



- A. 停止辅助
 - B. 停止
 - C. 转弯
 - D. 靠边停车
- 答案：B

2.4.1.7 图中警察手势为__信号。



- A. 靠左停车
- B. 停止
- C. 右转弯
- D. 靠边停车

答案：D


2.4.1.8 图中警察手势为___信号。



- A. 靠边停车
- B. 减速慢行
- C. 停止辅助
- D. 右转弯

答案：D


2.4.1.9 图中警察手势为___信号。



- A. 减速慢行
- B. 靠边停车
- C. 停止辅助
- D. 左转弯

答案：A

2.4.1.10 图中警察手势为___信号。



- A. 靠边停车
- B. 前车避让后车
- C. 停止辅助
- D. 减速慢行

答案：B

2.4.1.11 图中警察手势为___信号。




- A. 靠边停车
- B. 示意违章车辆靠边停车
- C. 停止辅助
- D. 减速慢行

答案：B

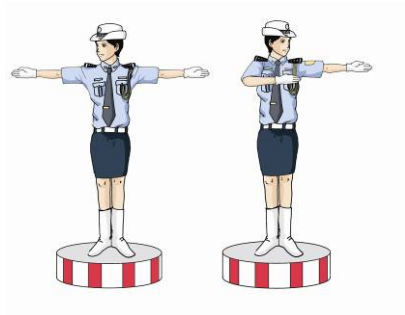
2.4.2 判断题：(11 题)

2.4.2.1 图中警察手势为直行信号。



答案：正确

2.4.2.2 图中警察手势为左转弯信号。



答案：错误

2.4.2.3 图中警察手势为直行辅助信号。



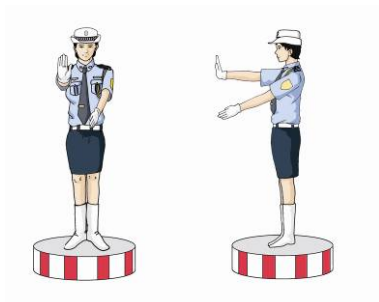
答案：正确

2.4.2.4 图中警察手势为左转弯辅助信号。



答案：错误

2.4.2.5 图中警察手势为右转弯信号。




答案：错误

2.4.2.6 图中警察手势为左小转弯信号。



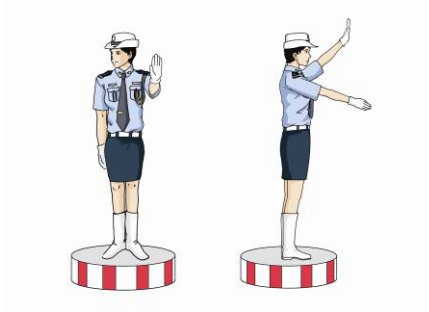
答案：错误

2.4.2.7 图中警察手势为停止信号。




答案：错误

2.4.2.8 图中警察手势为前车避让后车信号。




答案：错误

2.4.2.9 图中警察手势为右转弯信号。



答案：错误

2.4.2.10 图中警察手势为示意前车避让后车信号。



答案：正确

2.4.2.11 图中警察手势为示意违章靠边停车信号。



答案：正确

3. 安全行车、文明驾驶知识（145 道题）

3.1 安全操作要领（11 题）

3.1.1 选择题：（6 题）

3.1.1.1 驾驶摩托车时，___转向把。

- A. 双手可以临时离开
- B. 可以随意操作
- C. 严禁双手同时离开
- D. 可以原地转动

答案：C

3.1.1.2 驾驶摩托车上坡时，为保证前轮不脱离地面，驾驶员要采取身体前倾的姿势，使人车重心向___。

- A. 左移
- B. 后移
- C. 前移
- D. 右移

答案：C

3.1.1.3 驾驶摩托车下坡时，为保证摩托车的纵向平衡，驾驶员腰要挺起，身体后移，使人车重心向___。

- A. 后移
- B. 左移
- C. 前移
- D. 右移

答案：A

3.1.1.4 加速时为了防止前轮浮起，驾驶人身体需要_____。

- A. 后移
- B. 左倾
- C. 右倾
- D. 前移

答案：D

3.1.1.5 减速时为摩托车失去纵向平衡，驾驶人身体需要_____。

- A. 后移
- B. 左倾
- C. 前移
- D. 右倾

答案：A

3.1.1.6 摩托车转弯时，车体会向内侧倾斜，此时腿部应将油箱夹紧，身体略向弯道_____，人和车配合协调，安全转弯。

- A. 外倾
- B. 前倾
- C. 后倾
- D. 内倾

答案：D

3.1.2 判断题：（5题）

3.1.2.1 驾驶摩托车，应穿着颜色鲜明的长袖及长裤服装，易被其他交通参与者发现。

答案：正确

3.1.2.2 穿高跟鞋驾驶摩托车，不利于安全行车。

答案：正确

3.1.2.3 摩托车通过横断障碍时，应提前减速慢行，使车轮与横断面成直角通过。

答案：正确

3.1.2.4 驾驶摩托车转弯时，驾驶人应根据速度、弯度大小来调节乘坐姿势和车身倾斜角度，以保持摩托车的平衡。

答案：正确

3.1.2.5 驾驶摩托车在起伏路行驶时，一般采用半蹲姿式，利用膝关节的伸屈来减少颠簸对驾驶人的影响。

答案：错误

3.2 驾驶环境对安全行车的影响（16题）

3.2.1 选择题：（8题）

3.2.1.1 下雨后路面湿滑，行驶中使用制动时，容易_____。

- A. 引起发动机熄火
- B. 不被其他摩托车驾驶人发现
- C. 因视线模糊而撞车
- D. 发生横滑或侧滑

答案：D

3.2.1.2 当摩托车在湿滑路面上行驶时，路面附着力随着车速的增加_____。

- A. 急剧增大

- B. 逐渐增大
- C. 急剧减小
- D. 没有变化

答案：C

3.2.1.3 雾天对安全行车的主要影响是___。

- A. 发动机易熄火
- B. 易发生侧滑
- C. 行驶阻力增大，
- D. 能见度低，视线不清

答案：D

3.2.1.4 夜间驾驶人对物体的观察明显比白天差，视距___。

- A. 变长
- B. 变短
- C. 不变
- D. 无规律

答案：B

3.2.1.5 冰雪路行车时___。

- A. 制动距离延长
- B. 抗滑能力变大
- C. 路面附着力增大
- D. 制动性能没有变化

答案：A

3.2.1.6 泥泞道路对安全行车的主要影响是___。

- A. 行驶阻力变小
- B. 车轮极易滑转和侧滑
- C. 能见度低，视野模糊
- D. 路面附着力增大

答案：B

3.2.1.7 行车中突遇对方车辆强行超车，占据自己车道，正确的做法是___。

- A. 加速行驶
- B. 尽可能减速避让
- C. 保持原车速行驶
- D. 挡住其去路

答案：B

3.2.1.8 夜间行车时，全车灯光突然熄灭，应___。

- A. 减速行驶
- B. 紧急制动，原地停车
- C. 立即制动，靠边停车
- D. 利用惯性，慢慢停车

答案：C

3.2.2 判断题：(8题)

3.2.2.1 狂风袭来，可能会使行驶中的摩托车产生横向偏移。

答案：正确

3.2.2.2 夜间行车，驾驶人视距变短，影响观察，注意力高度集中，易产生疲劳。

答案：正确

3.2.2.3 驾驶人夜间行车遇对向灯光照射后，短时间内仍能看清前方道路情况。

答案：错误

3.2.2.4 冰雪道路行车，由于积雪对光线的反射，极易造成驾驶人目眩而产生错觉。

答案：正确

3.2.2.5 在冰雪道路上行车时，摩托车的稳定性降低，加速过急时车轮极易空转或滑溜。

答案：正确

3.2.2.6 在泥泞路上制动时，摩托车车轮易发生侧滑或甩尾，导致交通事故。

答案：正确

3.2.2.7 行车中突遇对向车辆强行超车，占据自己车道时，不予避让，迫使对方让路。

答案：错误

3.2.2.8 夜间行车时，全车灯光突然熄灭，应当紧急制动，迅速停车。

答案：错误

3.3 文明驾驶（28 题）

3.3.1 选择题：（16 题）

3.3.1.1 行车中遇有前方发生交通事故，需要帮助时，应___。

- A. 尽量绕道躲避
- B. 停车观望
- C. 减速停车，协助保护现场，并立即报警
- D. 加速通过

答案：C

3.3.1.2 行车中遇交通事故受伤者需要抢救时，应___。

- A. 及时将伤者送医院抢救或拨打急救电话
- B. 尽量避开，少惹麻烦
- C. 绕过现场行驶
- D. 借故避开现场

答案 A

3.3.1.3 行车中遇到对向来车占道行驶，应___。

- A. 紧靠道路中心行驶
- B. 主动给对方让行
- C. 用大灯警示对方
- D. 逼对方靠右行驶

答案：B

3.3.1.4 行车中发现前方道路拥堵时，应___。

- A. 寻找机会超越前车
- B. 从摩托车空间穿插通过
- C. 减速停车，依次排队等候
- D. 鸣喇叭催促

答案：C

3.3.1.5 会车中遇到对方来车行进有困难需借道时，应___。

- A. 不侵占对方道路，正常行驶
- B. 示意对方停车让行
- C. 靠右侧加速行驶

D. 尽量礼让对方先行

答案：D

3.3.1.6 行车中遇到后方车辆要求超车时，应___。

A. 及时向右行驶让行

B. 减速慢行

C. 靠右侧加速行驶

D. 不让行

答案：A

3.3.1.7 行车中发现其他摩托车陷于泥泞路段，需要帮助时，应___。

A. 绕行通过

B. 主动帮助

C. 视而不见

D. 绕道行驶

答案：B

3.3.1.8 谨慎驾驶的三条黄金原则：集中注意力、仔细观察和___。

A. 胆大心细

B. 手脚麻利

C. 提前预防

D. 低速行车

答案：C

3.3.1.9 驾驶摩托车正常行驶时，对道路情况的处理要有预见性，在接近障碍时能___。

A. 紧急制动能停车

B. 急转向迅速绕过

C. 迅速躲避不发生碰撞

D. 平稳停车

答案：D

3.3.1.10 驾驶人在超车时，前方摩托车不减速、不让道，应___。

A. 连续鸣喇叭加速超越

B. 加速继续超越

C. 停止继续超车

D. 紧跟其后，伺机再超

答案：C

3.3.1.11 驾驶人在超车时，发现前方车辆正在超车时，应___。

A. 紧跟其后，伺机超越

B. 加速强行超越

C. 连续鸣喇叭催前车让路

D. 停止超车，让前方车辆先超车

答案：D

3.3.1.12 驾驶摩托车时，为了安全起见，驾驶人___驾车。

A. 可以穿拖鞋

B. 穿哪种鞋都可以

C. 不要穿拖鞋

D. 可以穿高跟鞋

答案：C

- 3.3.1.13 发现前方道路堵塞，正确的做法是___。
- A. 继续穿插绕行
 - B. 选择空当逐车超越
 - C. 鸣喇叭示意前方车辆快速行驶
 - D. 按顺序停车等候
- 答案：D
- 3.3.1.14 发现前方的路口堵塞，正确的做法是___。
- A. 减速停车，等前方路口疏通后，方可继续行驶
 - B. 继续驶入路口
 - C. 鸣喇叭示意前方摩托车快速通过
 - D. 寻找机会从两侧通过
- 答案：A
- 3.3.1.15 超车时，前方摩托车不让出超车空间，应___。
- A. 迅速超越
 - B. 停止超车
 - C. 连续鸣喇叭超越
 - D. 开启前照灯超越
- 答案：B
- 3.3.1.16 当驾驶摩托车行经两侧有行人且有积水的路面时，应___。
- A. 加速通过
 - B. 正常行驶
 - C. 减速慢行
 - D. 连续鸣喇叭
- 答案：C
- 3.3.2 判断题：（12题）
- 3.3.2.1 驾驶摩托车在道路上行驶时，车速尽量保持不超过规定速度的10%。
- 答案：错误
- 3.3.2.2 在正常行车中，尽量靠近中心线或压线行驶，不给对方车辆留有侵占行驶路线的机会。
- 答案：错误
- 3.3.2.3 驾驶人一边驾车，一边打手持电话是违法行为。
- 答案：正确
- 3.3.2.4 会车时，应提前靠道路中心行驶，以免对方侵占路面太多。
- 答案：错误
- 3.3.2.5 在道路上超车时，应尽量加大横向距离，必要时可越实线超车。
- 答案：错误
- 3.3.2.6 驾驶摩托车在路面窄、路况较好的“村村通”公路上行车时，应控制好车速，保持安全距离，防止发生单方或碰撞事故。
- 答案：正确
- 3.3.2.7 谨慎驾驶摩托车的三原则是集中注意力，仔细观察，提前预防。
- 答案：正确
- 3.3.2.8 行车时应注意观察近距离路面情况，以防偏离行驶路线。
- 答案：错误
- 3.3.2.9 行车中要文明驾驶，礼让行车，做到不开英雄车、冒险车、赌气车和带病车。

答案：正确

3.3.2.10 驾车经过不允许鸣喇叭的路段,遇行人没有及时让路时,应断续鸣喇叭提醒让行。

答案：错误

3.3.2.11 驾驶人在观察后方无来车的情况下,未开转向灯就变更车道也是合理的。

答案：错误

3.3.2.12 天气炎热,驾驶人可以赤背、光脚、穿拖鞋驾驶摩托车。

答案：错误

3.4 安全驾驶行为(90题)

3.4.1 选择题:(43题)

3.4.1.1 行车中需要借道绕过前方障碍物,但对向来车已接近障碍物时,应___。

- A. 降低速度或停车,让对向来车优先通行
- B. 加速提前抢过
- C. 鸣喇叭示意对向摩托车让道
- D. 迅速占用车道,迫使对向来车停车让道

答案：A

3.4.1.2 驾驶摩托车在交叉路口前变更车道时,应___驶入要变更的车道。

- A. 在路口前实线区内根据需要
- B. 进入路口实线区内
- C. 在虚线区按导向箭头指示
- D. 在路口停止线前

答案：C

3.4.1.3 驾驶摩托车向左变更车道时,应提前___,在不影响其他车辆正常行驶的前提下,驶入左侧车道。

- A. 开启危险报警闪光灯
- B. 开启右转向灯
- C. 伸手示意
- D. 开启左转向灯

答案：D

3.4.1.4 摩托车从支路右转驶入主干道前,应___,靠右直行并变线、合流。

- A. 提前减速或停车,向左观察
- B. 加速进入主干道
- C. 匀速进入主干道
- D. 提前减速或停车,向右观察

答案：A

3.4.1.5 摩托车驶近人行横道时,应___。

- A. 加速通过
- B. 立即停车
- C. 鸣喇叭示意行人让道
- D. 先注意观察行人、非机动车动态,再通过

答案：D

3.4.1.6 行驶车道绿色箭头灯亮时,但摩托车前方人行横道仍有行人行走,应___。

- A. 直接起步通过
- B. 起步后从行人后方绕过

- C. 起步后从行人前方绕过
- D. 等行人通过后再起步

答案：D

3.4.1.7 摩托车起步后发现后方超越车辆较多时，应___。

- A. 伸手示意后车让行
- B. 加速驶入车行道
- C. 向左转向直接驶入车行道
- D. 沿行进方向缓行，等待时机驶入车行道

答案：D

3.4.1.8 进入左侧道路超车，无法保证与正常行驶前车的横向安全间距时，应___。

- A. 加速超越
- B. 并行一段距离后再超越
- C. 放弃超车
- D. 谨慎超越

答案：C

3.4.1.9 驾驶的摩托车正在被其他车辆超越时，应当___。

- A. 继续加速行驶
- B. 减速，靠右侧行驶
- C. 靠道路中心行驶
- D. 加速让路

答案：B

3.4.1.10 遇后车发出超车信号后，只要具备让超条件就应___。

- A. 迅速减速或紧急制动
- B. 让出适当空间加速行驶
- C. 主动减速并示意后车超越
- D. 靠道路右侧加速行驶

答案：C

3.4.1.11 驾驶摩托车行至急转弯处，应___。

- A. 借对向车道行驶
- B. 急剧制动低速通过
- C. 靠弯道外侧行驶
- D. 充分减速并靠近右侧行驶

答案：D

3.4.1.12 山区道路摩托车进入弯道前，在对面没有来车的情况下，___。

- A. 应“减速、鸣号、靠右行”
- B. 可靠弯道外侧行驶
- C. 可短时间借用对方的车道
- D. 可加速沿弯道切线方向通过

答案：A

3.4.1.13 在堵车的交叉路口绿灯亮时，摩托车___。

- A. 可直接驶入交叉路口
- B. 也不能驶入交叉路口
- C. 在保证安全的情况下驶入交叉路口
- D. 可借对向车道通过路口

答案：B

3.4.1.14 驾驶摩托车通过无人看守的铁路道口时，应做到___。

- A. 加速通过
- B. 减速通过
- C. 匀速通过
- D. 一停、二看、三通过

答案：D

3.4.1.15 驾驶摩托车驶入铁路道口前减速降挡，进入道口后___。

- A. 不能变换挡位
- B. 可以变换挡位
- C. 可换为高档
- D. 停车观察

答案：A

3.4.1.16 驾驶摩托车驶出环岛前，应开启___。

- A. 左转向灯
- B. 危险报警闪光灯
- C. 右转向灯
- D. 远光灯

答案：C

3.4.1.17 驾驶摩托车进入环岛时，___。

- A. 应开启右转向灯
- B. 应开启危险报警闪光灯
- C. 应开启左转向灯
- D. 不用开启转向灯

答案：D

3.4.1.18 行车中超越右侧停放的汽车时，为预防其突然起步或开启车门，应___。

- A. 预先留出横向安全距离，减速行驶
- B. 保持正常速度行驶
- C. 长鸣喇叭
- D. 加速通过

答案：A

3.4.1.19 驶近没有人行横道的交叉路口时，发现有人横穿道路，应___。

- A. 减速或停车让行
- B. 鸣喇叭示意其让道
- C. 抢在行人之前通过
- D. 立即变更车道绕过行人

答案：A

3.4.1.20 行车中遇有非机动车准备绕过停放的汽车时，应___。

- A. 鸣喇叭示意其让道
- B. 让其先行
- C. 加速绕过
- D. 紧随其后鸣喇叭

答案：B

3.4.1.21 行车中，遇非机动车抢行时，应___。

- A. 鸣喇叭警告
- B. 加速通过
- C. 主动减速让行
- D. 临近时突然加速

答案：C

3.4.1.22 行车中发现牲畜抢道时，应___。

- A. 主动减速或停车避让
- B. 鸣喇叭驱赶
- C. 加速绕过
- D. 低速用车驱赶

答案：A

3.4.1.23 行车中遇抢救伤员的救护车从本车道逆向驶来时，应___。

- A. 靠边减速或停车让行
- B. 占用其他车道行驶
- C. 加速变更车道避让
- D. 在原车道内继续行驶

答案：A

3.4.1.24 行车中发现其他机动车行驶异常时，应___。

- A. 鸣喇叭进行警示
- B. 及时采取避让措施
- C. 开大灯警告
- D. 用摩托车阻挡

答案：B

3.4.1.25 行车中突然有皮球滚到路上，应当___。

- A. 保持原速行驶
- B. 迅速绕过
- C. 立即减速，随时准备停车，以防碰撞追逐的儿童
- D. 从皮球上骑过

答案：C

3.4.1.26 行车中遇醉酒的行人时，应___。

- A. 鸣喇叭警示
- B. 迅速从一侧绕过
- C. 减速慢行，保持足够的横向间距
- D. 紧随其后行驶

答案：C

3.4.1.27 行车中遇行为异常行人影响摩托车正常行驶时，应___。

- A. 提前减速慢行，必要时停车
- B. 鸣喇叭催其让路
- C. 从一侧加速绕过
- D. 开启前照灯警示

答案：A

3.4.1.28 雨天行车，遇撑雨伞和穿雨衣的行人在公路上行走时，应当___。

- A. 以正常速度行驶
- B. 持续鸣喇叭示意其让道

- C. 加速绕行
- D. 提前鸣喇叭，并适当降低车速

答案：D

3.4.1.29 行车中遇老年人时，应___。

- A. 提前加速通过
- B. 从其身后绕行
- C. 适当降低车速，提前鸣喇叭
- D. 连续鸣喇叭提醒

答案：C

3.4.1.30 行车中遇盲人时，应___。

- A. 鸣喇叭示意其让道
- B. 迅速绕过
- C. 紧随其后行驶
- D. 减速、避让

答案：D

3.4.1.31 摩托车通过凹凸路面时，应___。

- A. 低速缓慢平稳通过
- B. 依靠惯性加速冲过
- C. 挂空挡滑行驶过
- D. 保持原速通过

答案：A

3.4.1.32 行车中遇有人赶牲畜时，应___。

- A. 鸣喇叭示意其让道
- B. 适当降低车速，保持较大的安全间距
- C. 迅速绕过
- D. 紧随其后行驶

答案：B

3.4.1.33 行车中遇老年人骑自行车时，应___。

- A. 临近时鸣喇叭示意其让道
- B. 提前鸣喇叭，减速避让
- C. 迅速绕过
- D. 紧随其后行驶

答案：B

3.4.1.34 夜间驾驶摩托车遇自行车对向驶来时，应___。

- A. 连续变换远、近光灯
- B. 不断鸣喇叭
- C. 使用远光灯
- D. 使用近光灯，减速避让，必要时停车

答案：D

3.4.1.35 行车中遇畜力车时，应___。

- A. 急加速绕过
- B. 临近时鸣喇叭
- C. 在较远处鸣喇叭，并提前减速
- D. 紧随其后行驶

答案：C

- 3.4.1.36 摩托车在主干道上行驶，驶近主支干道交汇处时，为防止与从支路突然驶入的车辆相撞，应___。
- A. 提前减速、观察，谨慎驾驶
 - B. 保持正常速度行驶
 - C. 鸣喇叭，迅速通过
 - D. 提前加速通过

答案：A

- 3.4.1.37 摩托车在交叉路口有优先通行权的，遇有车辆抢行时，应___。
- A. 抢行通过
 - B. 提前加速通过
 - C. 按优先权规定正常行驶不予避让
 - D. 减速避让，必要时停车让行

答案：D

- 3.4.1.38 驾驶人行车中看到注意儿童标志的时候，应当___。
- A. 加速行驶
 - B. 绕道行驶
 - C. 谨慎选择行车速度
 - D. 保持正常车速行驶

答案：C

- 3.4.1.39 摩托车从停在车站的公交车旁边通过时，应当___。
- A. 加速行驶
 - B. 减速行驶
 - C. 保持正常车速行驶
 - D. 靠边停车

答案：B

- 3.4.1.40 在环形路口内行驶时，如果有车辆强行驶入，应当___。
- A. 提高车速，抢道行驶
 - B. 保持正常车速行驶
 - C. 提高车速，不与其驶入
 - D. 减速避让

答案：D

- 3.4.1.41 摩托车行至交叉路口，遇有转弯的车辆抢行，应当___。
- A. 停车避让
 - B. 保持正常车速行驶
 - C. 提高车速抢先通过
 - D. 鸣喇叭抢先通过

答案：A

- 3.4.1.42 使用摩托车制动的错误做法是___。
- A. 同时使用前后制动
 - B. 先使用前轮制动
 - C. 先使用后轮制动
 - D. 不能过早使用前制动

答案：B

- 3.4.1.43 夏季驾驶摩托车的错误做法是_____。
- A. 长时间高速行驶
 - B. 用油门控制车速
 - C. 尽量不用或少用制动
 - D. 尽量不要载人或载货
- 答案：A
- 3.4.2 判断题：(47 题)
- 3.4.2.1 驾驶摩托车变更车道时，应提前开启转向灯，注意观察，保持安全距离，驶入要变更的车道。
- 答案：正确
- 3.4.2.2 驾驶摩托车在交叉路口前变更车道时，应在进入实线区后变更车道。
- 答案：错误
- 3.4.2.3 驾驶摩托车向右变更车道时，应提前开启左转向灯，驶入要变更的车道。
- 答案：错误
- 3.4.2.4 驾驶摩托车汇入车流时，应提前开启转向灯，保持直线行驶，通过后视镜观察左右情况，确认安全后汇入合流。
- 答案：正确
- 3.4.2.5 驾驶摩托车通过人行横道线时，应注意礼让行人。
- 答案：正确
- 3.4.2.6 驾驶摩托车驶近人行横道时，若遇行人正在横穿道路，尽量从行人后方绕过。
- 答案：错误
- 3.4.2.7 摩托车起步前，驾驶人应对摩托车周围交通情况进行观察，确认安全后再起步。
- 答案：正确
- 3.4.2.8 摩托车在路边起步后应尽快提速，并向左迅速转向驶入正常行驶道路。
- 答案：错误
- 3.4.2.9 摩托车在路边起步后，应随时注意摩托车两侧道路情况，向左缓慢转向，逐渐驶入正常行驶道路。
- 答案：正确
- 3.4.2.10 摩托车会车时，应在各自的行车道内行驶，不得越过中心线。
- 答案：正确
- 3.4.2.11 预计在超车过程中与对面来车有会车可能时，应提前加速超越。
- 答案：错误
- 3.4.2.12 通过铁路道口、急转弯、窄路、窄桥、隧道时，不得超车。
- 答案：正确
- 3.4.2.13 遇前方道路上有车辆掉头时，应在其停车换挡的过程中迅速超越。
- 答案：错误
- 3.4.2.14 驾驶摩托车进入交叉路口前，应降低行驶速度，注意观察，确认安全。
- 答案：正确
- 3.4.2.15 摩托车行经铁路道口，遇前方堵车时，即使交通信号允许通行也不应驶入。
- 答案：正确
- 3.4.2.16 通过无人看守的铁路道口时，没有看到火车到来可以加速通过。
- 答案：错误
- 3.4.2.17 通过有人看守的铁路道口时，服从道口管理人员指挥，不得与火车抢道。
- 答案：正确

- 3.4.2.18 驾驶摩托车进入环岛前，应开启右转向灯。
答案：错误
- 3.4.2.19 行车中，发现行人突然横过道路时，应迅速减速避让。
答案：正确
- 3.4.2.20 冬天行车中遇戴棉帽或穿大衣的行人时，应鸣喇叭，提前做好制动准备。
答案：正确
- 3.4.2.21 摩托车在交叉路口绿灯亮后，遇非机动车抢道影响通行时，可以不让行。
答案：错误
- 3.4.2.22 行车中遇牲畜突然横穿道路时，应在确保安全的前提下进行避让。
答案：正确
- 3.4.2.23 行车中遇故意不避让的车辆和行人时，可连续鸣喇叭加速通过。
答案：错误
- 3.4.2.24 摩托车掉头时，应观察是否有禁止掉头的标志，严禁在不准掉头的区域掉头。
答案：正确
- 3.4.2.25 驾驶摩托车遇有注意儿童标志时，应加速通过，以防儿童突然横穿道路。
答案：错误
- 3.4.2.26 遇儿童在公路嬉戏打闹时，应连续鸣喇叭，快速通过。
答案：错误
- 3.4.2.27 行车中遇儿童在路边玩耍，要提前减速，谨慎驾车通过。
答案：正确
- 3.4.2.28 行车中遇老人横过道路，行动缓慢，可持续鸣喇叭催促。
答案：错误
- 3.4.2.29 行车中遇到盲人和其他行动不便的行人，应该减速慢行，必要时停车。
答案：正确
- 3.4.2.30 行车中遇人赶牲畜影响通行时，持续鸣喇叭警告。
答案：错误
- 3.4.2.31 行车中遇人赶骑牲畜在道路上通过或同方向行进时，可连续鸣喇叭催促让行。
答案：错误
- 3.4.2.32 行车中前方遇自行车影响通行时，可鸣喇叭提示，加速绕行。
答案：错误
- 3.4.2.33 遇畜力车抢道行驶时，应及时鸣喇叭警告。
答案：错误
- 3.4.2.34 机动车在环形路口内行驶，遇有其他摩托车强行驶入时，只要有优先权就可以不避让。
答案：错误
- 3.4.2.35 摩托车行至急转弯处，应减速并靠右侧行驶，防止与越过弯道中心线的对方车辆相撞。
答案：正确
- 3.4.2.36 驾驶摩托车通过连续弯道，应尽量靠弯道的内侧行驶。
答案：错误
- 3.4.2.37 遇到享有优先通行权的摩托车时应主动礼让。
答案：正确
- 3.4.2.38 在路边临时停车时，可以逆向停车或者并列停车。
答案：错误

- 3.4.2.39 摩托车通过学校和小区应注意观察标志标线，低速行驶，不要鸣喇叭。
答案：正确
- 3.4.2.40 摩托车高速行驶时，仅使用前制动，驾驶人易因惯性从车上甩出摔伤。
答案：正确
- 3.4.2.41 驾驶摩托车使用制动时，先使用前轮制动，后使用后轮制动。
答案：错误
- 3.4.2.42 驾驶摩托车紧急制动时，应特别注意使车身垂直于路面，以免摩托车侧滑倾倒。
答案：正确
- 3.4.2.43 摩托车在较高速度转弯过程中，应当尽量不用或少用制动，否则易产生侧滑。
答案：正确
- 3.4.2.44 摩托车通过弯道或曲线路段时，应提前减速，换入空挡。
答案：错误
- 3.4.2.45 侧身乘坐摩托车极不安全，一旦发生侧滑，由于重心不稳，会被甩出造成伤亡。
答案：正确
- 3.4.2.46 摩托车在颠簸路面上行驶时，驾驶人应采用低挡低速，尽量选择坑大的地方行驶，以减小颠簸。
答案：错误
- 3.4.2.47 摩托车遇危险、复杂路况时，驾驶人应以中低速匀速行驶，注意保持车身平衡，谨慎通过。
答案：正确

4. 高速公路、山区道路、桥梁、隧道、夜间、恶劣气象和复杂道路条件下的安全驾驶知识（86 道题）

4.1 高速公路安全驾驶知识（18 题）

4.1.1 选择题：（7 题）

4.1.1.1 摩托车驶入高速公路的收费口时，应选择___的入口。

- A. 车辆多
- B. 红灯亮
- C. 暂停服务
- D. 绿灯亮

答案：D

4.1.1.2 驾驶摩托车进入高速公路加速车道后，应尽快将车速提高到每小时___以上。

- A. 30 公里
- B. 40 公里
- C. 60 公里
- D. 90 公里

答案：C

4.1.1.3 在同向 4 车道的高速公路上行车，摩托车应在___车道上行驶。

- A. 最左侧
- B. 第二条
- C. 第三条
- D. 最右侧

答案：D

- 4.1.1.4 驶离高速公路行车道的最佳时机是行至离出口___处，开启右转向灯，适当调整车速，平顺地驶入减速车道。
- A. 2 公里
B. 1 公里
C. 500 米
D. 50 米
答案：C
- 4.1.1.5 高速公路上行车，如果因疏忽驶过出口，应___。
- A. 在原地倒车驶回
B. 继续向前行驶，寻找下一个出口
C. 立即停车
D. 在原地掉头
答案：B
- 4.1.1.6 驶入高速公路减速车道后，应关闭转向灯，注意观察车速表，进入匝道之前将车速降到___以下。
- A. 标志规定车速
B. 每小时 80 公里
C. 每小时 60 公里
D. 每小时 40 公里
答案：A
- 4.1.1.7 摩托车驶出高速公路隧道口时，会突然受到横风的袭击，会明显出现___感。
- A. 减速
B. 漂移
C. 压力
D. 方向偏移
答案：D
- 4.1.2 判断题：(11 题)
- 4.1.2.1 摩托车驶入匝道后，迅速将车速提高到每小时 60 公里以上。
答案：错误
- 4.1.2.2 摩托车在高速公路匝道上可以停车。
答案：错误
- 4.1.2.3 摩托车不得在高速公路匝道上掉头。
答案：正确
- 4.1.2.4 摩托车在高速公路匝道提速到每小时 60 公里以上时，可直接驶入行车道。
答案：错误
- 4.1.2.5 在同向 2 车道的高速公路上，摩托车应在左侧车道上行驶。
答案：错误
- 4.1.2.6 摩托车应靠高速公路的右侧路肩上行驶。
答案：错误
- 4.1.2.7 摩托车在高速公路上行车，可以频繁地变更车道。
答案：错误
- 4.1.2.8 摩托车在高速公路上行车，如果因疏忽驶过出口，可从路肩逆行驶回出口处。
答案：错误
- 4.1.2.9 摩托车驶离高速公路时，应当经减速车道减速后进入匝道。

答案：正确

4.1.2.10 摩托车在高速公路行驶时，可以仅凭感觉确认车速。

答案：错误

4.1.2.11 摩托车进入高速公路匝道后，应使车速降到限定时速以下。

答案：正确

4.2 山区道路安全驾驶知识（15题）

4.2.1 选择题：（7题）

4.2.1.1 摩托车在山区道路跟车行驶时，应___。

- A. 紧随前车之后
- B. 适当加大安全距离
- C. 适当减小安全距离
- D. 尽可能寻找超车机会

答案：B

4.2.1.2 摩托车在山区道路超车时，应___超越。

- A. 选择较缓的下坡路
- B. 抓住任何机会尽量
- C. 选择宽阔的缓上坡路段
- D. 选择较长的下坡路

答案：C

4.2.1.3 摩托车在山区道路遇对向来车时，应___交会。

- A. 不减速
- B. 紧靠道路中心
- C. 加速
- D. 选择安全路段减速或停车

答案：D

4.2.1.4 摩托车接近坡顶时，看不到对面的来车和路面情况，错误的做法是___。

- A. 慢速行驶
- B. 加速通过
- C. 随时准备制动
- D. 不得使用紧急制动

答案：B

4.2.1.5 上坡尾随前车中途停车时，与前车的距离要___。

- A. 和平路时相同
- B. 比平路时小
- C. 为平路时的一半
- D. 比平路时大

答案：D

4.2.1.6 下坡中途停车时，踏制动踏板要___。

- A. 比在平路时提前
- B. 比在平路时推迟
- C. 和平路时一样
- D. 比在平路时轻

答案：A

- 4.2.1.7 摩托车在较窄的山路上行驶时，如果靠山体的一方车辆不让行，应当___。
- A. 向左占道，谨慎驶过
 - B. 提前减速并选择安全的地方避让
 - C. 保持正常车速行驶
 - D. 鸣喇叭催其让行
- 答案：B
- 4.2.2 判断题：(8题)
- 4.2.2.1 摩托车下长坡时要减挡行驶，以充分利用发动机的制动作用。
- 答案：正确
- 4.2.2.2 摩托车在下坡行驶时，可充分利用空挡滑行。
- 答案：错误
- 4.2.2.3 摩托车在通过山区弯道时，要做到“减速、鸣号、靠右行”。
- 答案：正确
- 4.2.2.4 摩托车在山区道路下急坡时，切忌超车。
- 答案：正确
- 4.2.2.5 摩托车在山区道路上陡坡时，应在坡底提前减挡，加速冲坡。
- 答案：正确
- 4.2.2.6 摩托车在山区道路跟车行驶时，应适当缩小安全距离。
- 答案：错误
- 4.2.2.7 摩托车进入山区道路后，要特别注意“连续转弯”标志，并主动避让车辆及行人，适时减速和提前鸣喇叭。
- 答案：正确
- 4.2.2.8 通过经常发生塌方、泥石流的山区地段，不能停车。
- 答案：正确
- 4.3 通过桥梁、隧道的安全驾驶知识 (4题)
- 4.3.1 选择题：(3题)
- 4.3.1.1 摩托车行驶至单向放行的隧道口，发现对向有来车时，应当___。
- A. 减速通过
 - B. 在隧道内靠右停让
 - C. 在隧道外靠右停让
 - D. 保持正常车速通过
- 答案：C
- 4.3.1.2 摩托车驶入双向行驶隧道前，应开启___。
- A. 危险报警闪光灯
 - B. 远光灯
 - C. 防雾灯
 - D. 示宽灯或近光灯
- 答案：D
- 4.3.1.3 摩托车通过立交桥左转弯时，应___完成。
- A. 驶过桥后右转弯
 - B. 不过桥右转弯
 - C. 直接左转弯
 - D. 驶过桥后左转弯

答案：A

4.3.2 判断题：（1 题）

4.3.2.1 摩托车通过立交桥时，如发现选择路线错误，应立即在原地掉头或倒车更改路线。

答案：错误

4.4 夜间安全驾驶知识（22 题）

4.4.1 选择题：（10 题）

4.4.1.1 夜间摩托车在没有照明条件的道路行车，当车速低于每小时 30 公里时，可使用___，灯光须照出 30 米以外。

- A. 近光灯
- B. 远光灯
- C. 防雾灯
- D. 危险报警闪光灯

答案：A

4.4.1.2 夜间摩托车在没有照明条件的道路行车，当车速高于每小时 30 公里时，可使用___，灯光须照出 30 米以外。

- A. 近光灯
- B. 远光灯
- C. 防雾灯
- D. 危险报警闪光灯

答案：B

4.4.1.3 夜间摩托车通过照明条件良好的路段时，应使用___。

- A. 防雾灯
- B. 近光灯
- C. 远光灯
- D. 危险报警闪光灯

答案：B

4.4.1.4 夜间行车中，如果灯光照射___，有可能是前方出现急转弯或大坑。

- A. 由远及近
- B. 离开路面
- C. 距离不变
- D. 由高变低

答案：B

4.4.1.5 夜间摩托车上坡行驶到坡顶时，灯光照射___。

- A. 由路中移到路侧
- B. 由路侧移到路中
- C. 离开路面
- D. 距离不变

答案：C

4.4.1.6 夜间行车中，前方出现弯道时，灯光照射___。

- A. 距离不变
- B. 由高变低
- C. 离开路面
- D. 由路中移到路侧

答案：D

4.4.1.7 夜间会车时，不要直视对面车辆灯光，应将视线___。

- A. 右移并减速行驶
- B. 左移并减速行驶
- C. 右移保持正常速度行驶
- D. 左移并加速行驶

答案：A

4.4.1.8 夜间超车时，要___，在确认前车让速让路后，方可超越。

- A. 开远光灯
- B. 连续地变换远、近光灯
- C. 开近光灯
- D. 开危险报警闪光灯

答案：B

4.4.1.9 夜间在窄路、窄桥与非机动车交会时应当使用___。

- A. 远光灯
- B. 近光灯
- C. 危险报警闪光灯
- D. 防雾灯

答案：B

4.4.1.10 夜间行车，对面来车没有关闭远光灯时，应当___。

- A. 保持正常车速行驶
- B. 提高车速，避开灯光
- C. 减速或停车让行
- D. 开启远光灯对射

答案：C

4.4.2 判断题：（12题）

4.4.2.1 夜间驾驶摩托车，驾驶人不容易产生视觉疲劳。

答案：错误

4.4.2.2 夜间驾驶摩托车，驾驶人的视野受限，很难观察到灯光照射区域以外的交通情况，因此要减速行驶。

答案：正确

4.4.2.3 夜间会车时，对面来车的灯光会造成驾驶人眩目而看不清前方的交通情况，驾驶人应将视线右移避开对方车辆灯光，并减速行驶。

答案：正确

4.4.2.4 夜间起步前，应当先开启近光灯。

答案：正确

4.4.2.5 夜间尾随前车行驶时，后车可以使用远光灯。

答案：错误

4.4.2.6 夜间行车，要尽量避免超车，确需超车时，可变换远近光灯向前车示意。

答案：正确

4.4.2.7 夜间行车，车速在每小时30公里以下时，应使用远光灯。

答案：错误

4.4.2.8 夜间在路灯照明条件差的道路上，车速在每小时30公里以上时，应使用近光灯。

答案：错误

4.4.2.9 夜间通过没有路灯或路灯照明不良时，应将近光灯转换为远光灯，但同向行驶的后车不得使用远光灯。

答案：正确

4.4.2.10 夜间行车，遇对面来车未关闭远光灯时，应加速通过。

答案：错误

4.4.2.11 夜间通过无交通信号控制的交叉路口行车时，不得变换远、近光灯。

答案：错误

4.4.2.12 夜间行车，当遇对面来车不关闭远光灯时，应及时减速或停车让行。

答案：正确

4.5 恶劣气象和复杂道路条件下的安全驾驶知识（27题）

4.5.1 选择题：（10题）

4.5.1.1 雪天行车时，为预防摩托车侧滑或与其他车辆发生刮碰，应___。

- A. 减速行驶并保持安全距离
- B. 紧跟前车并鸣喇叭提醒
- C. 与前车保持较小的间距
- D. 与旁边车道的车保持较小的横向间距

答案：A

4.5.1.2 在山区冰雪道路上行车，遇有前车正在爬坡时，后车应___。

- A. 选择适当地点停车，等前车通过后再爬坡
- B. 迅速超越前车
- C. 低速爬坡
- D. 紧随其后爬坡

答案：A

4.5.1.3 在冰雪路面上减速或停车，应充分利用___降低车速。

- A. 行车制动器
- B. 发动机的制动作用
- C. 驻车制动器
- D. 缓速器

答案：B

4.5.1.4 在结冰的道路上会车时，应当___稳住转向握把，缓慢交会。

- A. 临近减速
- B. 适当加速
- C. 提前减速
- D. 保持车速

答案：C

4.5.1.5 雾天行车时，因视线不良，应随时注意行人与其他车辆的动态，___。

- A. 连续鸣喇叭
- B. 正常速度行驶
- C. 开启远光灯
- D. 低速行驶

答案：D

4.5.1.6 行车中遇有浓雾或特大雾天，能见度过低行车困难时，应___。

- A. 开启前照灯行驶
- B. 开启示廓灯行驶
- C. 选择安全地点停车
- D. 开启危险报警闪光灯行驶

答案：C

4.5.1.7 在泥泞路段行车，应选用适当挡位，稳住___控制速度，匀速一次性通过。

- A. 前制动握把
- B. 离合器握把
- C. 制动踏板
- D. 油门握把

答案：D

4.5.1.8 摩托车涉水后，应保持低速行驶，___使用制动，以恢复制动效果。

- A. 轻缓
- B. 急剧
- C. 持续
- D. 间断

答案：D

4.5.1.9 驾驶摩托车行经施工路段时，应___。

- A. 选择适当地点停车
- B. 按照指路标志和指示牌绕行
- C. 靠右侧慢慢通过
- D. 靠左侧减速行驶

答案：B

4.5.1.10 驾驶摩托车通过泥泞路的错误做法是___。

- A. 双腿夹紧油箱
- B. 双脚踩稳脚踏
- C. 双脚做好随时落地的准备
- D. 将双脚高高抬起以免弄脏衣裤

答案：D

4.5.2 判断题：(17 题)

4.5.2.1 雨天路面湿滑，摩托车制动距离增大，因此行车中尽量使用紧急制动减速。

答案：错误

4.5.2.2 摩托车涉水后，制动器的制动效果不会改变。

答案：错误

4.5.2.3 在大雨天行车，为避免发生“水滑”而造成危险，要控制速度行驶。

答案：正确

4.5.2.4 雾天行车应尽量少使用甚至不用喇叭。

答案：错误

4.5.2.5 浓雾天气能见度低，开启摩托车远光灯会提高能见度。

答案：错误

4.5.2.6 连续降雨天气，山区公路可能会出现路肩疏散和堤坡坍塌现象，行车时应选择坚实的路面，避免靠近路边行驶。

答案：正确

4.5.2.7 大风天气行车中，如果遇到狂风袭来，感觉摩托车产生横向偏移时，要急转方向

以恢复行驶方向。

答案：错误

4.5.2.8 雪天行车中，在有车辙的路段应循车辙行驶。

答案：正确

4.5.2.9 摩托车在冰雪道路上因绕过障碍改变行驶方向或制动降速时，都不应使用后制动，以防前轮侧滑而摔倒。

答案：错误

4.5.2.10 摩托车在冰雪路上行驶，驾驶人要避免急剧改变方向，或者过急过大倾斜车身，以免侧滑。

答案：正确

4.5.2.11 摩托车在冰雪路制动时，驾驶人应采用点制动，并在制动时双脚做好落地的准备。

答案：正确

4.5.2.12 摩托车在冰雪路发生侧滑时，驾驶人应双脚轻轻点地或双脚落地将车扶正。

答案：正确

4.5.2.13 雾天行车应多使用喇叭，以引起对方注意。

答案：正确

4.5.2.14 浓雾天听到对向车辆鸣喇叭，应及时鸣喇叭回应。

答案：正确

4.5.2.15 摩托车在冰雪路面上行车，应降低车速，缩短车间距离。

答案：错误

4.5.2.16 摩托车行至泥泞或翻浆路段时，应停车观察，选择平整、坚实或有车辙的路段通过。

答案：正确

4.5.2.17 在铁路道口内，摩托车出现故障无法继续行驶时，应尽快将摩托车推离道口。

答案：正确

5. 出现爆胎、转向失控和制动失灵等紧急情况临危处置知识（43 题）

5.1 轮胎爆胎时的应急处置（13 题）

5.1.1 选择题：（8 题）

5.1.1.1 发现轮胎漏气时，驾驶人应紧握转向把，___，极力控制行驶方向，尽快驶离行车道。

- A. 迅速制动减速
- B. 慢慢制动减速
- C. 迅速向另一侧转向
- D. 采取紧急制动

答案：B

5.1.1.2 摩托车后轮胎爆裂时，驾驶人应保持镇定，___，极力控制摩托车保持直线行驶，减速停车。

- A. 迅速转动转向把
- B. 双手紧握转向把
- C. 迅速向相反方向转动转向把
- D. 迅速采取制动措施

答案：B

5.1.1.3 摩托车前轮爆胎时，会产生严重的左右摆动，驾驶人应立即减小油门，紧握转向把，迅速____，减速停车。

- A. 使用前轮制动
- B. 同时使用前后轮制动
- C. 使用后轮制动
- D. 逐级减挡

答案：D

5.1.1.4 行车中发生爆胎，尚未控制住车速前，驾驶人应____，以免摩托车横甩发生更大的险情。

- A. 使用前轮制动
- B. 急转转向把
- C. 松开油门
- D. 急踏制动踏板

答案：C

5.1.1.5 行车中轮胎突然爆裂时的应急措施是____。

- A. 迅速制动减速
- B. 紧握转向把，尽快平稳停车
- C. 迅速转动转向把调整方向
- D. 低速行驶，寻找换轮胎地点

答案：B

5.1.1.6 行车中轮胎突然爆裂时的不正确做法是____。

- A. 保持镇静，松开加速握把
- B. 紧握转向把，控制摩托车直线行驶
- C. 采取紧急制动，在最短的时间内停车
- D. 待车速降低后，再轻踏制动踏板

答案：C

5.1.1.7 轮胎气压过低时，高速行驶轮胎会出现波浪变形温度升高而导致____。

- A. 气压不稳
- B. 气压更低
- C. 行驶阻力增大
- D. 爆胎

答案：D

5.1.1.8 避免爆胎的错误做法是：____。

- A. 降低轮胎气压
- B. 定期检查轮胎
- C. 及时清理轮胎沟槽里的异物
- D. 更换有裂纹或有很深损伤的轮胎

答案：A

5.1.2 判断题：（5题）

5.1.2.1 驾驶人发现轮胎漏气时，应迅速制动减速，将摩托车尽快驶离行车道，停放在路边安全地点。

答案：错误

5.1.2.2 驾驶人发现轮胎漏气，将摩托车驶离主车道时，不要采用紧急制动，以免造成翻车或后车制动不及时导致追尾事故。

答案：正确

5.1.2.3 摩托车爆胎时，驾驶人应迅速踏下制动踏板减速，极力控制转向把，迅速停车。

答案：错误

5.1.2.4 摩托车爆胎后，驾驶人在尚未控制住车速前，不要冒险使用制动器停车，以避免摩托车横甩发生更大的险情。

答案：正确

5.1.2.5 摩托车爆胎时，驾驶人应在控制住方向的情况下采取紧急制动，迫使摩托车迅速停住。

答案：错误

5.2 转向失控、制动失灵、侧滑、碰撞、发生火灾等紧急情况临危处置（30题）

5.2.1 选择题：（12题）

5.2.1.1 驾驶人发现转向把不灵活时，错误的做法是___。

- A. 应尽快减速停车
- B. 在安全地点停车
- C. 继续驾驶
- D. 停车查明原因

答案：C

5.2.1.2 制动时车轮最容易抱死的路面是___。

- A. 混凝土路
- B. 土路
- C. 冰雪路
- D. 沙土路

答案：C

5.2.1.3 脚制动突然失灵时，驾驶人要沉着镇静，握紧转向把，___进行减速。

- A. 连续踩踏制动踏板
- B. 缓握制动握把
- C. 握紧离合器握把
- D. 迅速握紧制动握把

答案：B

5.2.1.4 行车中发动机突然熄火后，应___。

- A. 立即减速停车
- B. 关闭点火开关
- C. 空挡行驶
- D. 开启右转向灯，将车缓慢驶向路边停车检查

答案：D

5.2.1.5 摩托车在冰雪路上发生侧滑时应___以保持车辆平衡。

- A. 握紧离合器握把
- B. 握紧制动握把
- C. 踏下制动踏板
- D. 回小油门，将操纵把转向侧滑一方

答案：D

5.2.1.6 摩托车燃油着火时，不能用于灭火的是___。

- A. 路边沙土

- B. 棉衣
- C. 工作服
- D. 水

答案：D

5.2.1.7 灭火时使用灭火器的错误做法是___。

- A. 人要站在上风处
- B. 尽量远离火源
- C. 灭火器要瞄准火源
- D. 灭火器要瞄准火苗

答案：D

5.2.1.8 在高速公路行驶中，发现前方有人或动物突然横穿时，应___。

- A. 迅速采取紧急制动
- B. 迅速向右转向避让
- C. 果断采取损失小的避让措施
- D. 迅速向左转向避让

答案：C

5.2.1.9 雨天摩托车在高速公路行驶发生“水滑”现象时，应___。

- A. 急踏制动踏板减速
- B. 迅速转动转向把进行调整
- C. 握稳转向把，逐渐降低车速
- D. 提高车速增大车轮排水量

答案：C

5.2.1.10 大雨天在高速公路行车，为避免发生“水滑”而造成危险，要___行驶。

- A. 降低车速
- B. 提高车速
- C. 安装防滑装置
- D. 增加轮胎气压

答案：A

5.2.1.11 摩托车在高速公路发生故障需停车检查时，应在___停车。

- A. 最外侧行车道上
- B. 内侧行车道上
- C. 紧急停车带
- D. 匝道口三角地带

答案：C

5.2.1.12 在高速公路遇意外情况必须停车时，严禁在___停车。

- A. 行车道
- B. 路肩
- C. 服务区
- D. 紧急停车带

答案：A

5.2.2 判断题：（18题）

5.2.2.1 驾驶人发现转向把突然不灵，但还可实现转向时，应将车推到附近修理厂修好后再行驶。

答案：正确

5.2.2.2 高速行驶的摩托车，在转向失控的情况下使用紧急制动，很容易翻车。

答案：正确

5.2.2.3 摩托车制动失效后，应以控制方向为第一应急措施，再设法控制车速。

答案：正确

5.2.2.4 转弯时速度过快，摩托车容易冲出弯道或侧滑。

答案：正确

5.2.2.5 三轮摩托车在缓慢翻车有可能跳车逃生时，驾驶人应向翻车的方向跳车。

答案：错误

5.2.2.6 水既可以用于熄灭木材、纸张、布匹和轮胎火灾，也能用来熄灭电器、汽油着火。

答案：错误

5.2.2.7 救火时，应脱去所穿的化纤服装，注意保护暴露在外面的皮肤。

答案：正确

5.2.2.8 救火时，不要张嘴呼吸或高声呐喊，以免烟火灼伤上呼吸道。

答案：正确

5.2.2.9 使用灭火器灭火时，人要站在上风处，灭火器瞄准火苗，借风势将泡沫吹向火苗。

答案：错误

5.2.2.10 发现高速公路上突然有人或动物横穿时，紧急避险措施不应超过必要的限度，造成不应有的损害。

答案：正确

5.2.2.11 摩托车在高速公路急转向，极易造成侧滑相撞或在离心力作用下翻滚的事故。

答案：正确

5.2.2.12 雨天在高速公路行驶时，随着车速的增加，轮胎与路面之间形成水膜，轮胎悬浮，附着力变小，容易发生“水滑”现象。

答案：正确

5.2.2.13 雨天在高速公路行车，为避免发生“水滑”现象而造成方向失控，应提高车速。

答案：错误

5.2.2.14 摩托车在高速公路行驶中，遇意外情况紧急需停车时，可在行车道上直接停车。

答案：错误

5.2.2.15 摩托车在高速公路意外撞击护栏时，应稳住方向握把，适当修正，切忌猛转转向握把。

答案：正确

5.2.2.16 摩托车驶出隧道口处，遇横风引起摩托车偏离行驶路线时，应握稳转向把，微量进行调整。

答案：正确

5.2.2.17 行至两座山谷之间，如果遇到较强的横风，感觉摩托车产生横向偏移时，要急转转向把调正行进方向。

答案：错误

5.2.2.18 摩托车高速行驶时急转向，极易造成侧滑相撞或在离心力作用下倾翻的事故。

答案：正确

6. 摩托车总体构造和主要安全装置常识，日常检查和维护基本知识（30 题）

6.1 摩托车总体构造常识（2 题）

6.1.1 选择题：（2 题）

6.1.1.1 摩托车传动链条的垂度过大会造成_____。

- A. 加速齿轮和链条的磨损
- B. 齿轮和链条卡滞
- C. 链条拉断或脱落
- D. 传动无力

答案：C

6.1.1.2 摩托车传动机构通常由离合器、_____、传动轴（或链条）和减速器组成。

- A. 分动器
- B. 差速器
- C. 制动器
- D. 变速器

答案：D

6.2 主要安全装置常识（21 题）

6.2.1 选择题：（10 题）

6.2.1.1 车速里程表由车速表和里程表两部分组成，车速表指示_____。

- A. 加速时间
- B. 行驶速度
- C. 发动机转速
- D. 累计里程

答案：B

6.2.1.2 燃油表与_____连成电路，是用来指示油箱中存油量的。

- A. 副油箱
- B. 电阻
- C. 传感器
- D. 燃油泵

答案：C

6.2.1.3 机油压力表是用来指示发动机运转时_____主油道的润滑油压力。

- A. 行驶系
- B. 冷却系
- C. 传动系
- D. 润滑系

答案：D

6.2.1.4 在行驶中，仪表板上的“”灯亮时，应该_____。

- A. 前往维修厂检修
- B. 需要加注燃油
- C. 停车添加机油
- D. 油路出现故障


答案：B

6.2.1.5 在行驶中，仪表板上的“”灯亮起，说明_____。

- A. 发动机机油压力过低

- B. 制动液泄漏
- C. 燃油有泄漏
- D. 发动机机油压力过高

答案：A

6.2.1.6 仪表板上的“”灯亮，提醒驾驶人使用的是___。

- A. 前照灯近光
- B. 前照灯远光
- C. 前雾灯
- D. 后雾灯

答案：B

6.2.1.7 出车前应检查摩托车转向机构、灯光和___等是否完好。

- A. 制动
- B. 后排座椅
- C. 随车工具
- D. 音响

答案：A

6.2.1.8 摩托车驾驶人应根据自己的___，选用专用安全头盔。

- A. 爱好
- B. 感觉
- C. 需要
- D. 头部大小

答案：D

6.2.1.9 摩托车驾驶人最有效的防护装备是___。

- A. 眼镜
- B. 专用安全头盔
- C. 手套
- D. 安全护膝

答案：B

6.2.1.10 驾驶摩托车时，保护双膝的最好办法是___。

- A. 戴护膝
- B. 穿长裤
- C. 短途骑车不戴护膝
- D. 骑车时膝盖向内侧

答案：A

6.2.2 判断题：（11 题）

6.2.2.1 行车途中，仪表板上的“”灯亮起，提醒需要更换机油。

答案：错误

6.2.2.2 行车途中，仪表板上的“”灯亮起，说明机油压力过低。

答案：正确

6.2.2.3 仪表板上的“”灯亮，是提醒使用的是近光灯。

答案：错误

6.2.2.4 摩托车头盔的主要作用是用来减轻撞击时对人头部的伤害。

答案：正确

6.2.2.5 驾驶摩托车不同季节应选用不同类型的头盔（全盔、半盔、夏盔），最好选用红色、黄色等颜色鲜艳的头盔。

答案：正确

6.2.2.6 驾驶摩托车时应当穿着有脚后跟、鞋底不容易滑的鞋或靴，以保证用脚换档的灵活，准确而可靠。

答案：正确

6.2.2.7 驾驶摩托车，应选用合适、耐磨的手套，最好是符合手指尺寸的皮手套。

答案：正确

6.2.2.8 驾驶摩托车前必须戴好安全头盔，调整后视镜的角度至能够看清左右两侧后方情况。

答案：正确

6.2.2.9 驾驶摩托车可以不戴安全头盔。

答案：错误

6.2.2.10 驾驶摩托车必须戴安全头盔，但可以不用系安全头盔带。

答案：错误

6.2.2.11 乘坐摩托车的人，不必戴安全头盔。

答案：错误

6.3 摩托车总体构造常识及日常检查和维护基本知识（7题）

6.3.1 选择题：（3题）

6.3.1.1 行驶途中停车时，应检查发动机有无___现象。

A. 漏水

B. 漏电

C. 漏油

D. 漏气

答案：C

6.3.1.2 摩托车日常维护时，应检查轮胎外表有无破损，并___。

A. 更换新轮胎

B. 进行轮胎换位

C. 清洗轮胎

D. 清除胎纹间杂物

答案：D

6.3.1.3 使用已经有裂纹或损伤的轮胎行驶，容易引起___。

A. 摩托车跑偏

B. 爆胎

C. 转向失控

D. 增大行驶阻力

答案：B

6.3.2 判断题：（4题）

6.3.2.1 出车前应检查摩托车的转向机构、轮胎、照明信号和制动等装置是否完好。

答案：正确

6.3.2.2 为了避免爆胎，要定期进行轮胎换位，适当降低轮胎气压。

答案：错误

6.3.2.3 轮胎气压高于或低于标准均会导致爆胎。

答案：正确

6.3.2.4 使用已经有裂纹或损伤的轮胎行驶，容易引起爆胎。

答案：正确

7. 发生交通事故后的自救、急救等基本知识（30 题）

7.1 伤员自救、急救知识（30 题）

7.1.1 选择题：（11 题）

7.1.1.1 抢救伤员时，应___。

- A. 先救命，后治伤
- B. 先治伤，后救命
- C. 先帮轻伤员
- D. 后救重伤员

答案：A

7.1.1.2 搬运昏迷或有窒息危险的伤员时，应采用___的方式。

- A. 俯卧
- B. 仰卧
- C. 侧卧
- D. 侧俯卧

答案：C

7.1.1.3 抢救失血伤员时，应先进行___。

- A. 观察
- B. 包扎
- C. 止血
- D. 询问

答案：C

7.1.1.4 救助全身烧伤伤员的错误措施是___。

- A. 用沙土覆盖
- B. 迅速扑灭衣服上的火焰
- C. 向身上喷冷水
- D. 脱掉烧着的衣服

答案：A

7.1.1.5 对无骨端外露骨折伤员的肢体，用夹板或木棍、树枝等固定时应___。

- A. 超过伤口上、下关节
- B. 超过伤口下关节
- C. 超过伤口上关节
- D. 不得超过伤口上、下关节

答案：A

7.1.1.6 关节损伤（扭伤、脱臼、骨折）的伤员，___。

- A. 允许改变损伤时瞬间的位置
- B. 应避免活动
- C. 尽量自行复位
- D. 可适当调整损伤时的姿势

答案：B

7.1.1.7 颈总动脉压迫止血法常用于伤员___动脉大出血而采用其他止血方法无效时使用。

- A. 颈部
- B. 面部
- C. 肋部
- D. 颞部

答案：A

7.1.1.8 伤员上肢或小腿出血，且没有骨折和关节损伤时，可采用___止血。

- A. 止血带止血法
- B. 加压包扎止血法
- C. 屈肢加垫止血法
- D. 压迫止血法

答案：C

7.1.1.9 包扎止血法不能用的物品是___。

- A. 绷带
- B. 三角巾
- C. 止血带
- D. 麻绳

答案：D

7.1.1.10 止血带止血是用弹性的橡皮管、橡皮带，上肢结扎于伤员上臂上___处，下肢结扎于大腿的中部。

- A. 三分之一
- B. 二分之一
- C. 三分之二
- D. 四分之三

答案：A

7.1.1.11 抢救脊柱骨折的伤员时，应___。

- A. 采取保暖措施
- B. 用软板担架运送
- C. 用三角巾固定
- D. 扶持伤者移动

答案：C

7.1.2 判断题：(19 题)

7.1.2.1 处理伤员失血的措施可通过外部压力，使伤口流血止住，然后系上绷带。

答案：正确

7.1.2.2 救助休克伤员时，应采取保暖措施，防止热损耗。

答案：正确

7.1.2.3 烧伤伤员口渴时，可喝少量的淡盐水。

答案：正确

7.1.2.4 移动脊柱骨折的伤员，切勿扶持伤者走动，可用软担架运送。

答案：错误

7.1.2.5 伤员骨折处出血时应先固定，然后止血和包扎伤口。

答案：错误

7.1.2.6 伤员大腿、小腿和脊椎骨折时，一般应就地固定，不要随便移动伤者。

答案：正确

- 7.1.2.7 骨折伤员固定伤处力求稳妥牢固，要固定骨折的两端和上下两个关节。
答案：正确
- 7.1.2.8 伤员上肢骨折固定时，肢体要伸直捆绑。
答案：错误
- 7.1.2.9 伤员下肢骨折固定时，肢体要弯着呈屈肘状伸直捆绑。
答案：错误
- 7.1.2.10 伤员四肢骨折有骨外露时，要及时还纳并固定。
答案：错误
- 7.1.2.11 把骨折伤员抬上担架时，要由2名救护人员把手托放在伤员身下，一起将伤员抬上担架。
答案：错误
- 7.1.2.12 骨折伤员脊柱可能受损时，不要改变伤员姿势。
答案：正确
- 7.1.2.13 如遇伤员无呼吸时，应立刻对伤员进行口对口人工呼吸。
答案：正确
- 7.1.2.14 用止血带为伤员止血，一定要扎紧，如果扎得不紧，深部动脉仍有血液流出。
答案：正确
- 7.1.2.15 伤员前臂或小腿出血，可在腋窝或肘窝加垫屈肢固定。
答案：正确
- 7.1.2.16 为伤员用绷带包扎打结时，不要在伤口上方，也不要放在身体背后，以免睡觉时压住不舒服。
答案：正确
- 7.1.2.17 在没有绷带急救伤员的情况下，可用毛巾、手帕、床单、长筒尼龙袜子等代替绷带包扎。
答案：正确
- 7.1.2.18 伤员上肢出血，且没有骨折和关节损伤时，可采用加压包扎止血法止血。
答案：错误
- 7.1.2.19 伤员骨折处有出血时应先固定，然后止血和消毒包扎伤口。
答案：错误